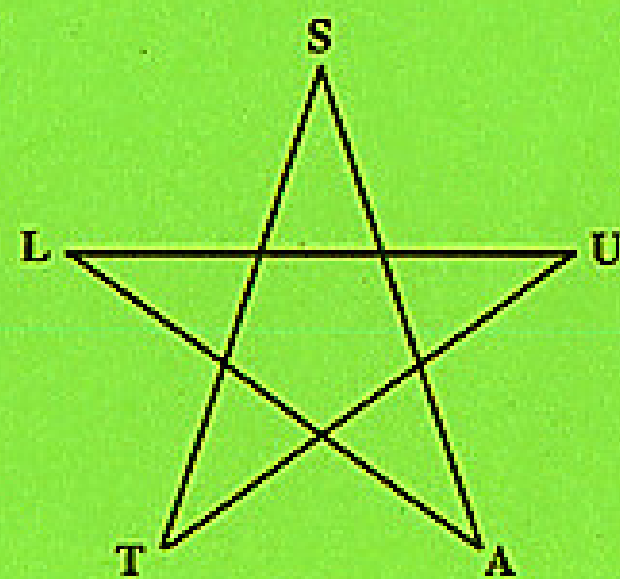


## FLASH LA FIN4L

- Matematica apare din nou în muzică. Antract ne-au povestit vara asta de iubirea de la  $-\infty$  la  $+\infty$
- În bătălia dintre Doamna Ministru Ecaterina Andronescu și numeroasele edituri cu manualele lor pentru clasa a XI-a, a ieșit învingător Domnul Profesor Mircea Ganga. Se mai întâmplă și minuni; sau poate am luat-o, în sfârșit pe drumul cel bun.
- $\sqrt{2} + \sqrt{3} \approx \pi$  (aproximate până la nivelul sutimilor:  $1,41 + 1,73 = 3,14$ ).
- $\sqrt{2}$  apare în pătrat,  $\sqrt{3}$  în triunghiul echilateral, iar  $\pi$  în cerc. Conform teoriei lui Kandinsky avem aici tricolorul (roșu, galben și albastru – vezi P3NT4GON1A Nr. 6). Ce frumos le-a aranjat Dumnezeu pe toate!



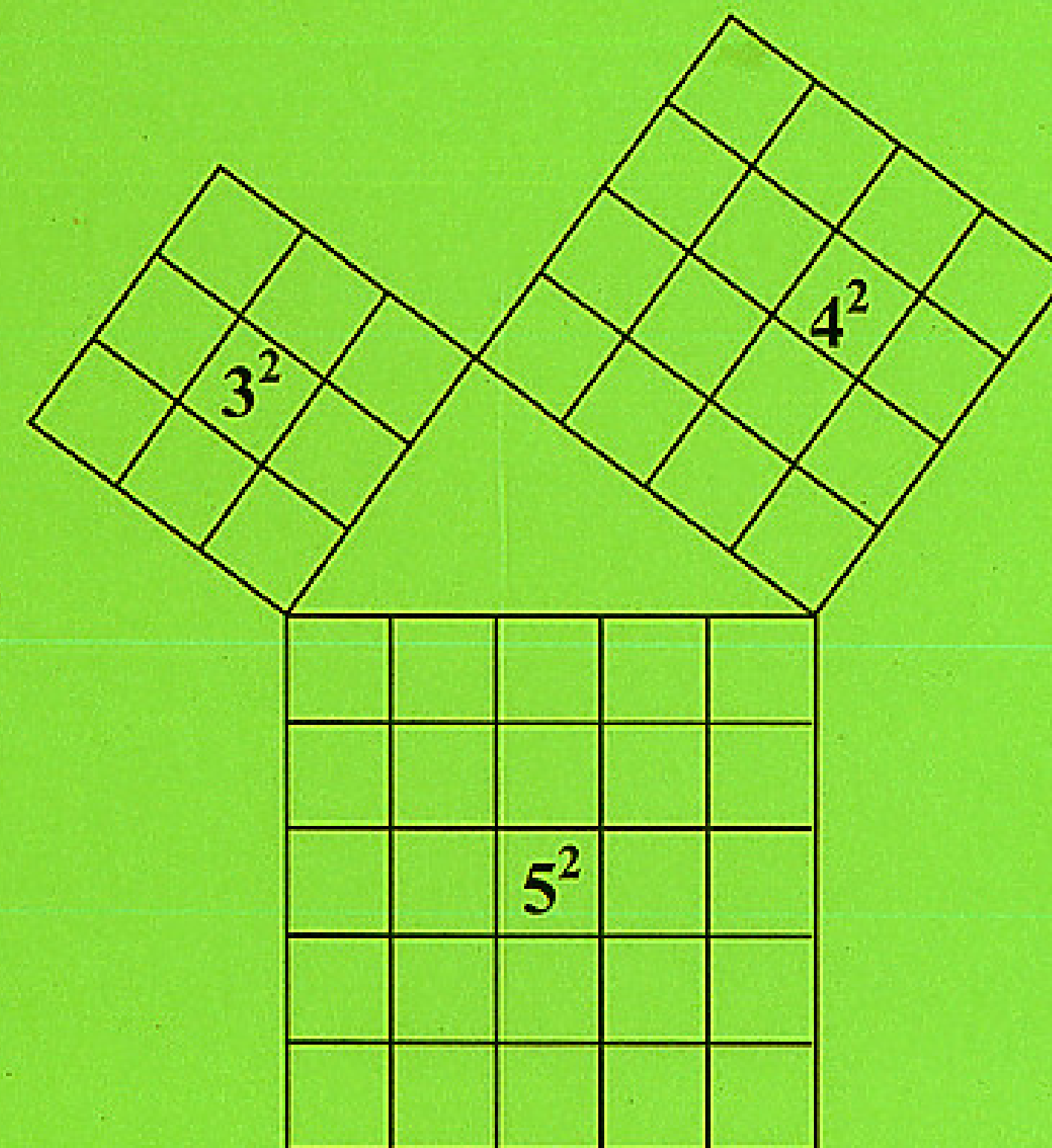
Editura TRIADE 2001  
ISBN: 973 - 9196 - 87 - X



# CAIETE DE MATEMATICĂ

# P3NT4GON1A

REDACTORI  
MARIANA & TITUS GRIGOROVICI



**Predarea ariilor în gimnaziu**  
**Cel mai mic memorator matematic cunoscut**  
**Demonstrații ale teoremei lui Pitagora**



NUMĂRUL 8  
SEPTEMBRIE 2001



### Din nou la școală

Iată-ne din nou împreună, cu un nou caiet P3NT4GON1A, dedicat în mare parte geometriei. De la poezii și teorii despre trandafiri, până la arii și demonstrații ale teoremei lui Pitagora, acest caiet „mustește” de geometrie. În așteptarea unui material ce va cuprinde toată geometria gimnazială, ne mulțumim acum cu o prezentare cât de cât completă a predării noțiunii de arie.

Am încercat totuși să nu neglijăm nici latura algebrică. Pe lângă faptul că sprijină intens articolele despre geometrie, algebra este prezentă în c.m.m.m.c și în a doua parte a colecției „101 ecuații cu radicali”. În afară de acestea vă prezentăm o teorie personală despre reprezentarea grafică completă a parabolei, teorie ce datează din 1992, fiind publicată într-o primă formă în „Didactica matematicii”, vol 8.

În final vă invităm la ediția a III-a a concursului de matematică P3NT4GON1A, adresat elevilor de clasa a VIII-a, concurs ce va fi organizat anul acesta împreună cu Școala Eugen A. Pora” din Cluj în data de 27 octombrie. Vă așteptăm să vă înscrieți până în data de 10 octombrie cu echipaje de cinci elevi însoțiți de un profesor corector la telefon 098 601 275.

Titus Grigorovici

### CUPRINS

PREZENTARE DE CARTE Egmond Colerus – „De la tabla înmulțirii la integrală”;	
„De la punct la a patra dimensiune” .....	1
D-4LE PROFESORILOR Drama geometriei .....	3
Cele două paralele – Christian Morgenstern .....	4
METODICA Predarea ariilor în gimnaziu .....	5
Rezultatul întotdeauna UNU .....	10
RESOLUARE Demonstrații ale teoremei lui Pitagora .....	11
Farmecul pentagramei .....	15
Reprezentarea conicelor în spațiul complex .....	17
101 ecuații cu radicali (partea a II-a) .....	20

#### Caietele de matematică P3NT4GON1A

Avizate de Direcția Generală a Învățământului Preuniversitar

TITUS GRIGOROVICI – redactor coordonator

MARIANA GRIGOROVICI – redactor și tehnoredactor

Caiet de matematică P3NT4GON1A - Nr. 8, ISBN – 973 – 9196 – 87 – X

EDITURA TRIADE – C.P. – 1 – 400, 3400 CLUJ – NAPOCA

Tipărit la TIPOGRAFIA PRINTEK, CLUJ – NAPOCA, tel. 092-510747

Comenzi la tel. 098-601275

### PREZENTARE DE CARTE

#### Egmond Colerus – „De la tabla înmulțirii la integrală” – „De la punct la a patra dimensiune”

Cărțile lui Egmond Colerus au apărut în original în perioada interbelică, iar în românește la Editura Științifică în 1967, în traducerea profesorilor S. și C. Teleman. Cele două volume sunt de o valoare metodică și practică atât de ridicată, încât studiul lor ar trebui să fie obligatoriu în orice facultate ce pregătește profesori de matematică. Faptul că Egmond Colerus nu a fost matematician i-a permis o tratare degajată și atractivă, plăcută cititului, lectura curgând ca un roman de la apariția tablei înmulțirii până la integrală, de la Thales până la geometria celei de-a patra dimensiuni.

Ne permitem, în continuare, să cităm unele idei din prefața celor două volume, cuvintele autorului exprimând cel mai bine gândurile sale legate de aceste extraordinare cărți.

*Matematica este ca o capcană. Cel prins în ea rareori găsește calea care să-l readucă în starea de spirit anterioară. Ar dura prea mult explicarea motivelor acestui fenomen caracteristic. De aceea vrem doar să stabilim consecințele lui. Prima consecință a asemănării matematicii cu o „capcană” este marea lipsă de pedagogi ai matematicii. Foarte rar se întrunesc talentul la matematică cu expunerea clară a matematicii. De aici rezultă o a doua consecință, și anume „complexul de inferioritate față de matematică” al unor pături largi de oameni instruiți sau dornici de a se instrui.(...)*

*Am observat propriile mele suferințe și suferințele colegilor mei de școală. de aceea am trecut la înfăptuirea intenției de a descrie felul în care am trăit matematica într-un stadiu relativ incipient al formării mele și trebuie să mă feresc eu însumi în mod conștient de „capcana” pe care o cunosc și din care peste câțiva ani nu voi mai putea ieși.(...)*

*Este cu totul nesatisfăcător, aproape un scandal cultural, faptul că cititorul unei lucrări de nivel nu prea înalt se află dintr-o dată în fața unui noian de hieroglife, care îl înspăimântă și-l îndepărtează; sau că el trebuie să se lase pe seama unui număr mic de inițiați, care-l tratează cu ironie.(...)*

*În primul rând se întâmplă ca doritorii de cultură (...) să dorească să cunoască lumea noțiunilor „neplăcutei” matematici pe o altă cale decât aceea școlărească, să pornească de la tabla înmulțirii până la integrală pe alt drum, pentru a-și însuși ceea ce este mai general și, în acest mod să ajungă la o liniște interioară. Este posibil ca doritorii de cultură să aspire la mai mult. Atunci ei se*

putea lăsa, după modesta mea introducere, cu toată încrederea, pe mâna sigură a (...) specialiștilor și pe această cale putea ajunge oricât de departe dori, până cădea în „capcană” și nu mai înțelege nimic din risipa de cuvinte și din naivitatea mea. Acești cititori fi mândria mea, chiar dacă ulterior mă disprețui profund.

Se mai poate întâmpla ca școlarii să se servească de cartea mea ca de un material proscris. Pentru aceasta, rog pe toți pedagogii să-mi acorde iertare și să nu mă denunțe ca „corupător al tineretului”. Declar acestor tineri că, incontestabil, în cazul contradicțiilor nu trebuie să mă creadă pe mine, ci pe profesorul lor de matematică.(...)

Poetul Novalis a spus: „Viața zeilor este matematica. Toți trimișii zeilor trebuie să fie matematicieni... Matematicienii sunt singurii fericiți. Adevăratul matematician este un entuziast din . Fără entuziasm nu poate fi nici matematică”. M-aș considera fericit dacă aș ști că am reușit să transmit cititorilor mei măcar o adiere a acestui spirit, deoarece, din păcate, „complexul de inferioritate față de matematică” produce, ca orice complex de acest fel, sentimentul urii și al resentimentului.(...) Voi încerca să combat prin lucrarea de față repulsia față de cea mai pură, aproape aș spune cea mai sfântă dintre toate științele.(...)

Marele Leibniz a spus că filozofia nu este decât anticamera înțelepciunii; dacă mi se permite să-mi apropiu această cugetare și să o aplic, puțin modificată, la a doua mea carte, voi spune despre ea că este „anticamera geometriei”. Acolo, în interiorul sanctuarului, tronează toate figurile mari: Pitagora, Euclid, Arhimede, Napier, Descartes, Legendre, Poncelet, Lobacevski, Gauss, Riemann, Beltrami, Veronese, Poincare, Hilbert; dar în anticameră este nevoie de un secretar pentru a îndruma pe cei ce așteaptă cu nerăbdare dar plini de respect să fie primiți înăuntru, cum trebuie să procedeze pentru a putea să se apropie de acești oameni mari fără a risca să fie imediat concediați.(...)

Iar acum, deoarece nu se poate altfel, dat fiind că în matematică nu există cale pentru regi, trebuie ca cititorul împreună cu mine să lucrăm împreună, intens, pentru a ajunge de la înmulțire la integrală, de la punct la a patra dimensiune. Sper că, în principiu, voi fi oferit posibilitatea pentru atingerea acestui scop. Adversarii mei avea apoi cuvântul. ● ☺

Viena, 8 sept. 1934 ; 20 sept. 1935

EGMONT COLERUS

## D-4LE PROFESORILOR

### Drama geometriei

A fost odată ca niciodată, că dacă n-ar fi fost, nu s-ar mai fi povestit, demult, pe vremea când elevii de azi nici nu erau născuți, a fost pe vremea aceea o materie pe care toată lumea o iubea. Profesorii o predau cu pasiune, iar pentru elevi era una dintre materiile preferate. Ea se numea geometrie și era de neam vechi și nobil; strămoșii ei fiind cunoscuți din antichitate iar în timpul Renașterii fiind considerată chiar o artă.

Această materie a avut și pe meleagurile noastre ca mentori o serie de maeștri care au adus-o la o popularitate și strălucire ieșite din comun. Ultimul dintre aceștia a fost profesorul A. Hollinger, manualele sale reușind să trezească în sufletul elevilor o dragoste deosebită pentru geometrie.

Dar, iată că nori negri și grei începeau să se adune la orizontul geometriei. Pe alte meleaguri apăreau mari enciclopedii de matematică, ce ordonau geometria pur axiomatic. Această ordonare se trăgea din ideile marelui matematician german David Hilbert. Pentru matematicieni, această ordonare absolută era considerată „ultima frontieră” în geometrie, recunoscut fiind faptul că, odată cu apariția ciudatelor geometrii neeuclidiene, geometria clasică nu mai oferea nici o posibilitate de extindere. Aceste ordonări erau realizate de către specialiști de vârf, pentru specialiști, studenți și profesori. Dar nu aceste ordonări axiomatice au dăunat geometriei, ci ideea de a le implanta în învățământul preuniversitar. Ordonarea riguros axiomatică a fost introdusă în liceu, după care acest manual a fost adaptat la gimnaziu. Dacă în liceu mai existau șanse ca elevii să priceapă despre ce este vorba, în gimnaziu aceste șanse au fost reduse la un minuscul  $\epsilon$ . Dacă pe vremea manualelor profesorului Hollinger, majoritatea elevilor înțelegeau și îndrăgeau geometria, în anii '80 doar 2 - 3, cel mult un sfert din elevii unei clase mai înțelegeau ceva. Prin '83 - '84, când am început să mă pregătesc pentru facultate, profesorul la care mergeam pentru sfaturi și îndrumări, mi-a recomandat la geometrie parcurgerea manualelor de geometrie de gimnaziu, pentru că „aveau problemele mult mai grele decât materialul de liceu”. Iar manualele alternative apărute în ultimii ani au reușit să definitiveze statutul de „persona nongrata” a geometriei în școală.

Slăbită fiind de aceste lovituri primite în ultimii 20 de ani, geometria a primit la pragul dintre milenii și ultima mare lovitură: eliminarea cvasi-totală din materia de liceu; de acolo de unde elevii aveau în sfârșit dezvoltarea necesară de a face și a savura geometrie de înaltă clasă. Eu, de exemplu, elev fiind în clasa a IX-a, am reușit o generalizare a formulei pentru aria triunghiului. Nu voi uita niciodată entuziasmul și bucuria nemăsurată pe care le-am trăit în acele clipe.

O durere de nedescris îmi umple sufletul acum, când îmi dau seama că elevii de azi nu mai au ocazia de a cunoaște această bucurie.

Mă gândesc, cu ce aş putea compara mai bine situația actuală a geometriei: cu a Cenușăresei sau cu a Albei ca zăpada. Cred că amândouă se potrivesc; geometria a fost batjocorită aidoma Cenușăresei de către surorile și mama vitregă, dar a fost și alungată din liceu ca Albă ca zăpada din castel de către vrăjitoare. Rămâne speranța în prințul care trebuie să vină, ca în povești și să salveze geometria, pentru a trăi împreună fericiți, până la adânci bătrâneți.

Titus Grigorovici

#### DIE ZWEI PARALLELEN

Es gingen zwei Parallelen  
ins Endlose hinaus,  
zwei kerzengerade Seelen  
und aus solidem Haus.

Sie wollten sich nicht schneiden  
bis an ihr seliges Grab :  
Das war nun einmal der beiden  
geheimer Stolz und Stab.

Doch als sie zehn Lichtjahre  
gewandert neben sich hin,  
da wards dem einsamen Paare  
nicht irdisch mehr zu Sinn.

War'n sie noch Parallelen ?  
Sie wussten selber nicht, –  
sie flossen nur wie zwei Seelen  
zusammen durch ewiges Licht.

Das ewige Licht durchdrang sie,  
da wurden sie eins in ihm ;  
die Ewigkeit durchdrang sie  
als wie zwei Seraphim.

#### CELE DOUĂ PARALELE

Două paralele-mpreună  
curgeau la infinit.  
Erau de familie bună  
cu sufletul drept și cinstit.

Visau să nu se separe  
până-n sufletescul mormânt.  
Era mândria lor mare  
și singurul lor cuvânt.

Dar trec ani-lumină și, iată,  
văzând cum timpul gonește,  
perechea însingurată  
n-a mai simțit pământeste.

Erau ? Mai erau paralele  
abstractele lor linii ?  
Curgeau, neștiind nici ele,  
curgeau prin vecia luminii.

Și-eterna lumină-i sorbi  
cu palizii-i ochi anonimi.  
Pieriră în veșnicii  
asemeni cu doi serafimi.

Christian Morgenstern

## ME7ODICA

### Predarea ariilor în gimnaziu

Ariile reprezintă, alături de teorema lui Pitagora, momentul în care elevii încep să îndrăgească geometria. Aceasta în special datorită faptului că acum încep în sfârșit să socotească la geometrie. Din păcate acest frumos capitol a fost făcut harcea – parcea de programă în vigoare, fiind pur și simplu împrăștiat din clasa a V-a până într-a VII-a. Și, ca și cum aceasta n-ar fi fost de ajuns, autorii de manuale au dat „Ariilor” lovitura de grație prin pasaje de genul: „Iată câteva elemente legate de aria unui triunghi.

*Aria unui triunghi este egală cu jumătate dintre lungimea unei laturi și lungimea înălțimii corespunzătoare laturii,...*

*Teoremă: Două triunghiuri congruente au aceeași arie.*

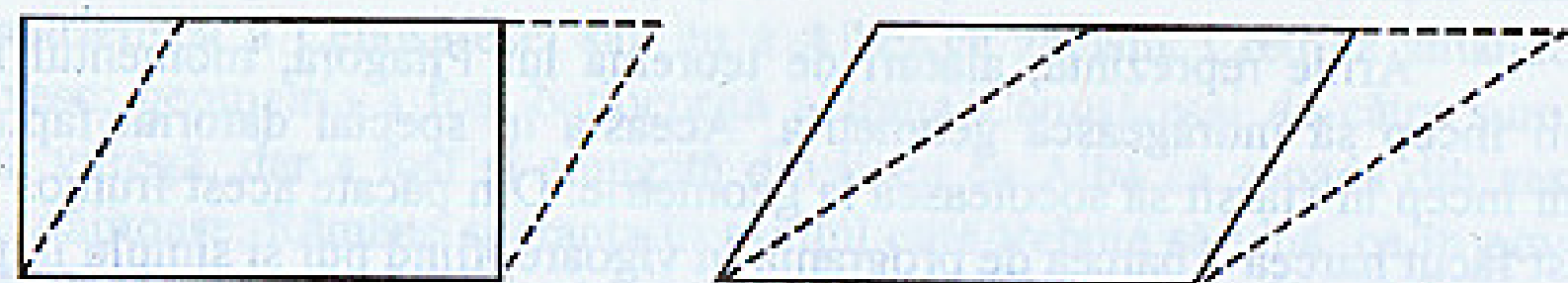
*Demonstrație: ...*”

Autorii manualului din care am prezentat citatul de mai sus, nu consideră așa de importantă formula de calcul a ariei triunghiului, de vreme ce nu o evidențiază în -un fel (boldire, subliniere, colorare). Nici demonstrarea, în -un fel, a acestei formule nu este prezentată elevilor. În schimb, după părerea acestor autori, este vital ca elevii să priceapă, cu titlu de teoremă că două triunghiuri congruente au aceeași arie; în plus această teoremă stupidă trebuie și demonstrată. Acești pseudo-dascăli n-au înțeles nimic din gândirea elevului, fiind blocați cu capul în nori. În această lecție vedeta este regula de calcul a ariei, iar elevul ar trebui să afle de unde se deduce aceasta. Faptul că două figuri congruente au aceeași arie este absolut evident, elevii neînțelegând ce ... profesorul.

În speranța că mai sunt profesori interesați de o predare în beneficiul elevilor și care au curajul de a se detașa de tiparul manualului, iată în continuare câteva aspecte metodice legate de predarea ariilor:

1. Aria este măsura unei suprafețe. Foarte sec spus, aria este un număr iar suprafața un obiect. Este evident că notarea ariei cu  $S$  este greșită, acest  $S$  sugerând suprafața, nu aria.
2. Aria măsoară cât de mare este interiorul unei suprafețe (limitate de o linie închisă). Edificatoare în acest sens este traducerea din limba germană: FLÄCHENINHALT = CONȚINUTUL SUPRAFETEI. Înainte de a începe să măsurăm această suprafață este bine să dezvoltăm la elevi un simț pentru mărimea suprafeței. Deci, înainte de a ajunge la numere, este bine ca elevii să aproximeze „din ochi” mărimea unei suprafețe. Aceasta se poate face ușor studiind figuri de forme diferite dar cu suprafețe de aceeași mărime (figuri

echivalente). În Școala Waldorf, aceasta se face în cadrul lecției „Forfecarea paralelogramelor”. Iată, în detaliu, această lecție.



În figura de mai sus, decupăm o porțiune triunghiulară dintr-un dreptunghi, și o atașăm în partea cealaltă, obținând un paralelogram. Este evident că paralelogramul are aceeași mărime ca și dreptunghiul. Operația se poate repeta, obținându-se un nou paralelogram cu aceeași mărime a suprafeței. Concluzionăm:

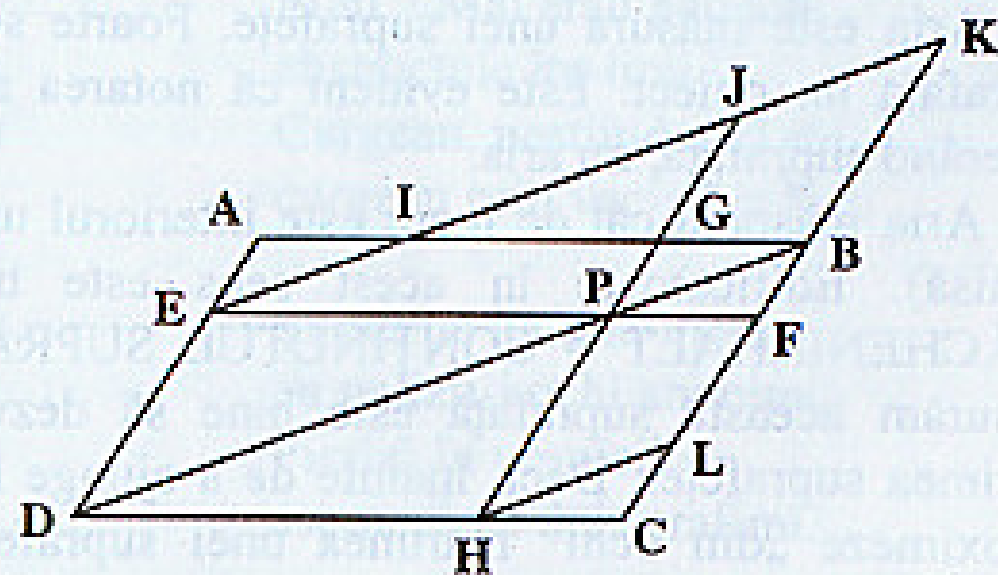
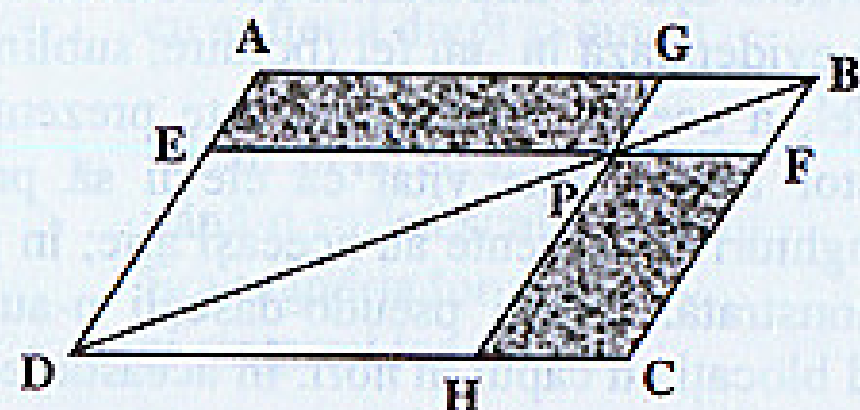
**Teoremă:** Mărimea suprafeței unui paralelogram nu se schimbă dacă translătăm o latură a sa pe dreapta suport. Această transformare se numește „forfecare a paralelogramului”.

După analiza acestui fenomen putem lua următoarea problemă, cunoscută sub denumirea de „Figura Gnomon”.

Pe diagonala [BD] a paralelogramului ABCD se ia punctul P. Prin P se duc

paralelele  $EF \parallel AB$  și  $HG \parallel BC$ . Arătați că paralelogramele AEPG și CFPH au aceeași mărime a suprafeței.

Cerința acestei probleme este uluitoare pentru elevi: se vede că cele două paralelograme nu sunt congruente și totuși, interioarele lor sunt la fel de mari, adică cele două suprafețe sunt echivalente. Iată și demonstrația ce folosește teorema de mai sus. Printr-o succesiune de forfecări și o translație, mutăm paralelogramul AEPG, schimbându-i forma, dar nu și mărimea



suprafeței, până când obținem paralelogramul CFPH:  $AEPG \sim IEPB \sim KJPB \equiv \equiv BPHL \sim FPHC$  (am construit  $EK \parallel BD \parallel HL$ ).

Ca temă, elevii pot primi sarcina de a demonstra problema, ducând paralelogramul prin colțul stânga-jos al figurii.

Atrag atenția că în toată această lecție nu se folosește deloc noțiunea de arie. Aria ca măsură a suprafeței apare de-abia după ora următoare.

Cu forfecarea paralelogramelor ne putem întâlni mai târziu, la teorema lui Pitagora, când elevii construiește pătratul ipotenuzei din cele două pătrate ale catetelor. (Vezi demonstrația 1 de la pagina 11).

Întărirea simțului pentru mărimea suprafeței se face în ora următoare prin lecția „Forfecarea triunghiurilor”.

Se știe că orice paralelogram se descompune pe diagonală în două triunghiuri congruente. Cu alte cuvinte, mărimea suprafeței unui triunghi este jumătate din mărimea suprafeței paralelogramului corespunzător. Destul de ușor deducem următoarea

**Teoremă:** Mărimea suprafeței unui triunghi nu se schimbă dacă modificăm triunghiul, mutând un vârf paralel cu latura opusă.

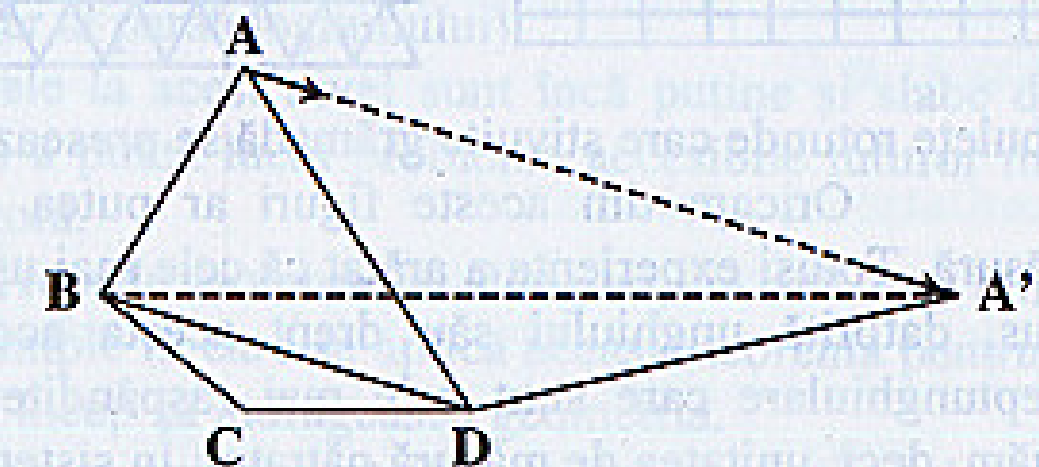
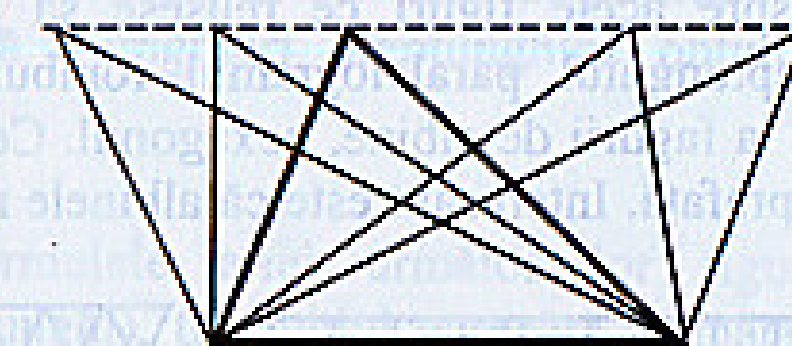
Folosind această teoremă putem transforma diferite suprafețe poligonale în alte suprafețe cu proprietăți impuse.

**Exemplul 1:** Fie patrulaterul oarecare ABCD. Transformați-l într-un trapez cu aceeași mărime a suprafeței.

$ABCD \rightarrow A'B'CD$  unde  
 $A'B \parallel CD$  și  $AA' \parallel BD$ .

**Exemplul 2:** Se dă un patrulater concav. Transformați-l într-un patrulater convex cu aceeași mărime a suprafeței.

**Exemplul 3:** a) Transformați un patrulater într-un triunghi echivalent.  
b) Idem, pornind de la un pentagon.




$ABCD \rightarrow A'CD$  ( $AA' \parallel BD$ ).

Este important ca aceste două lecții, „Forfecarea paralelogramelor” și „Forfecarea triunghiurilor” să fie parcurse fiecare în câte o oră. La începutul orei cu forfecarea triunghiurilor, înaintea teoremei, pe baza observației „diagonala împarte paralelogramul în două triunghiuri congruente”, se poate da cu elevii o demonstrație mult mai ușoară a „figurii gnomon”. Această demonstrație nu trebuie însă dată în aceeași oră cu demonstrația bazată pe forfecarea paralelogramelor. Scopul nostru nu este rezolvarea problemei ci formarea unui simț pentru transformarea suprafețelor echivalente.

3. După ce, timp de două ore, am vorbit de mărimea unei suprafețe, începem acum să o și măsurăm.

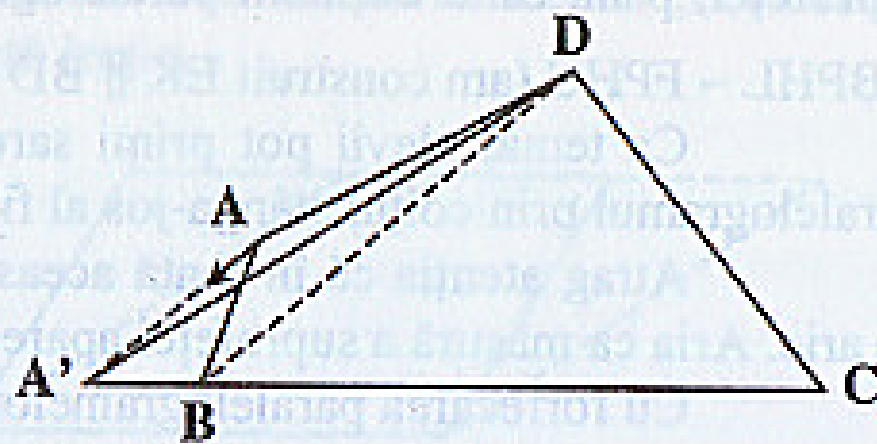
Pentru a stabili o unitate de măsură se poate discuta câteva minute despre acele figuri ce reușesc să parcheteze complet o suprafață: pătratul, dreptunghiul, paralelogramul, romb, triunghiul și desigur „vedeta” cunoscută de la fagurii de albine, hexagonul. Cercurile (discurile) nu putea acoperi total o suprafață. Interesant este că albinele nu-și fac fagurii hexagonali ci rotunzi: niște



tubulețe rotunde care stivuite grămadă se presează și iau formă hexagonală.

Oricare din aceste figuri ar putea fi considerate drept unitate de măsură. Totuși experiența a arătat că cele mai ușoare calcule le oferă pătratul. În plus, datorită unghiului său drept acesta acoperă cel mai bine suprafețele dreptunghiulare care sunt cele mai răspândite (podele, pereți, grădini etc.). Luăm, deci, unitatea de măsură pătratul. În sistemul metric se folosesc  $\text{mm}^2$ ,  $\text{cm}^2$ ,  $\text{dm}^2$ ,  $\text{m}^2$ , arul =  $\text{dam}^2$ , hectarul =  $\text{hm}^2$  și  $\text{km}^2$ .

Înaintea calculului ariilor prin formule, trebuie găsită aria unei figuri prin numărarea pătrățelelor pe hârtie milimetrică. Pentru a se lucra eficient, se împarte clasa în grupe (rândul A, B, C fiecare cu un triunghi, paralelogram respectiv romb dat).



Unii elevi găsi, în timp ce numără milimetrii pătrați diferite șmecherii. Fără a le încuraja, în prima fază, acestea duc totuși la ideea de formulă de arie, ca o rețetă ce înlocuiește numărătoarea grea cu un calcul simplu și eficient. Însă, de-abia ora următoare vom aborda oficial aceste formule. Până atunci gândirea elevilor va avea timp să se acomodeze cu ideea de arie, ca număr ce exprimă conținutul unei suprafețe.

4. Elevii care au reușit să fenteze numărătoarea milimetrilor prin diferite observații având la bază aria dreptunghiului, acești elevi savura descoperirea rând pe rând a formulelor de arie.

Pentru că ordinea cu care suntem obișnuiți din manuale este atât de diferită de ordinea firească, vă prezentăm pe scurt această lecție.

Baza întregii lecții este aria dreptunghiului ce se determină logic pe baza figurii alăturate. A porni această lecție prin definirea ariei triunghiului este una dintre cele mai mari gafe metodice cu puțință.



Aria pătratului se determină ca un caz particular al dreptunghiului.

Împărțind dreptunghiul în două triunghiuri dreptunghice obținem formula  $\frac{c_1 \cdot c_2}{2}$ .

În același stil se găsesc formulele ariei următoarelor figuri: paralelogramul (prin forfecarea unui dreptunghi), triunghiul oarecare (jumătate din paralelogram), romb (jumătate din dreptunghiul în care este înscris) și trapezul. În final se mai pot găsi două formule: pătratul (caz particular al rombului) și romb (caz particular al paralelogramului).

Exercițiile și problemele la acest nivel sunt încă puține și slabe din punct de vedere calitativ. Pentru a putea lucra probleme accesibile tuturor mai avem nevoie de teorema lui Pitagora.

5. Cu cât elevii stăpânesc mai repede teorema lui Pitagora, cu atât mai bine, pentru că, odată cu problemele simple în care se aplică această teoremă pentru a calcula aria sau perimetrul, elevii încep să îndrăgească geometria.

Pentru teorema lui Pitagora există circa 200 de demonstrații, cele mai multe dintre acestea fiind pe bază de arii. Totuși nu e bine să bombardăm elevii din prima oră cu prea multe demonstrații. Una – două ajung. Iată, în continuare, o posibilitate de predare a celei mai importante lecții din geometria gimnazială.

După diferite elemente istorice (Egiptul antic etc.) se poate analiza că „suma pătratelor catetelor este egală cu pătratul ipotenuzei”, construind figura în cazul triunghiului egiptean ( $3^2 + 4^2 = 5^2$ ).

Prima demonstrație poate fi una prin forfecări și translatări de paralelograme (dem. 1; pag 11). Demonstrația a doua (pag 12) bazată pe forfecări ale triunghiurilor, poate fi redactată și cu ajutorul congruenței triunghiurilor. În funcție de cum evoluează materia, ulterior pot fi parcurse și alte demonstrații.

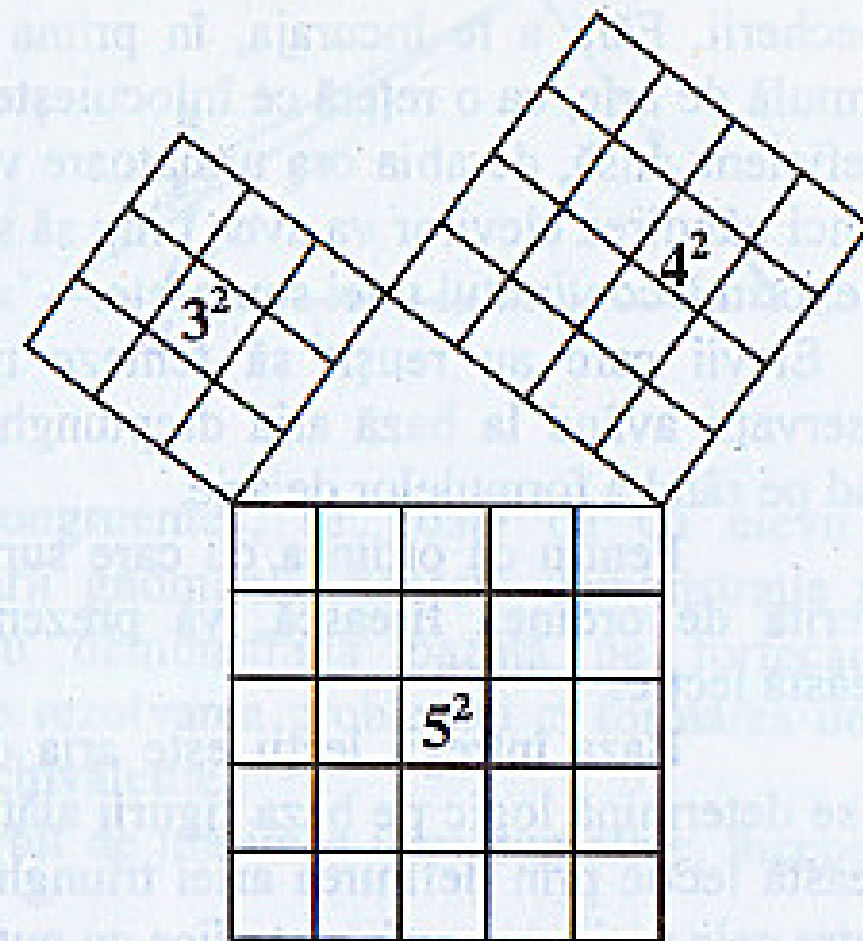
Odată învățată teorema lui Pitagora, urmează o serie de ore în care parcurgem toate posibilitățile tradiționale de calcul a ariei sau perimetrului figurilor de bază (dreptunghi, romb, paralelogram, trapeze), mai întâi cu numere întregi, apoi cu fracții și cu numere iraționale (pătratul, triunghiul echilateral etc.).

Predarea teoremei lui Pitagora la începutul clasei a VII-a după rădăcina pătrată, la sfârșitul capitolului Arii, prezintă o serie de avantaje și un dezavantaj. Dezavantajul se referă la neconcordanța cu materia pentru olimpiadă. Avantajele merg de la faptul că toți elevii au la îndemână destul de repede cel mai eficient instrument de calcul în geometrie (care poate fi ușor completat cu formula  $h = c_1 \cdot c_2 / ip$ ), până la faptul că astfel profesorii de matematică au siguranța că predau ei această lecție înaintea celor de fizică (datorită neconcordanței programelor elevii învață deseori teorema lui Pitagora mai întâi la fizică). ● ⊙

### Rezultatul întotdeauna UNU

*Luați un număr la întâmplare. Înmulțiți-l cu el însuși. La rezultat adunați numărul ales. Acest nou rezultat împărțiți-l la numărul ales și apoi scădeți numărul ales. Rezultatul final este întotdeauna 1.*

Uimirea este unul dintre cele mai eficiente instrumente ce ne stau la dispoziție pentru atragerea elevilor către matematică. Pentru a uimi elevii nu trebuie să scoatem întotdeauna „artileria grea”. Acest simplu exercițiu este la fel de eficient, putând fi folosit în mod repetat din clasa a III-a, până în liceu. La început elevii pot exersa în acest exercițiu cele patru operații pe numere accesibile; apoi pe numere tot mai mari. În clasa a V-a pot primi sarcina de a-l aranja liniar folosind parantezele și ordinea efectuării operațiilor. Urmează verificarea exercițiului pe fracții (ordinare sau zecimale). În clasa a VI-a se pot face verificări pe numere negative, iar în a VII-a pe numere iraționale. În clasa a VIII-a, la operații cu fracții algebrice, elevii putea demonstra că rezultatul este 1 pentru orice număr. Prin verificarea pe ciudatele numere complexe le vom aminti ultima dată elevilor de acest simpatic exercițiu. ● ⊙

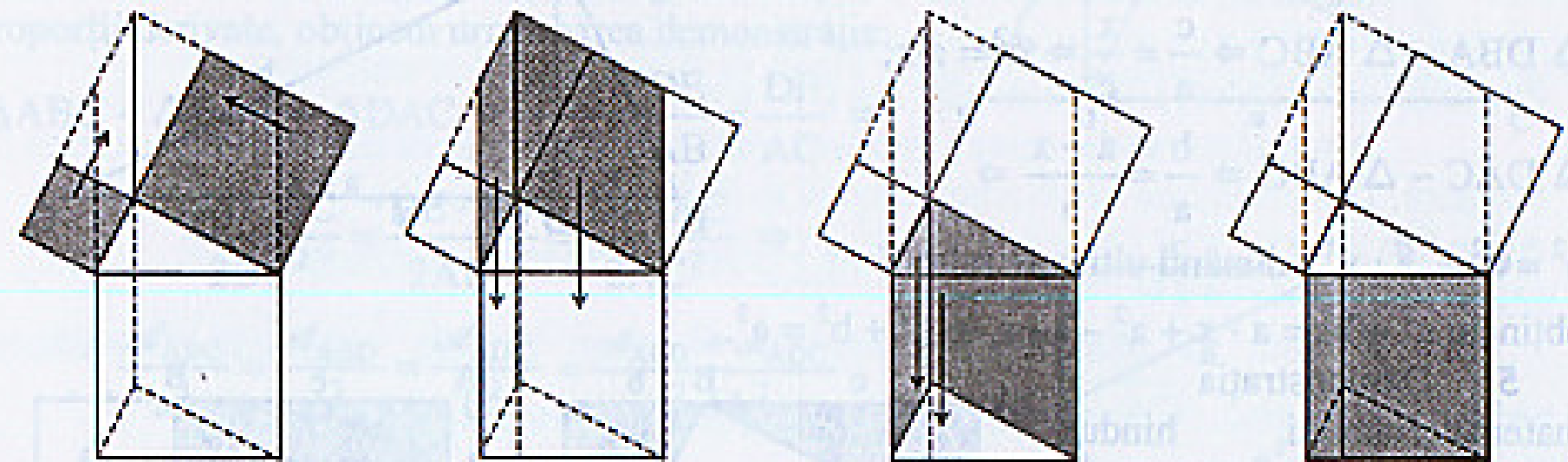


### R3LUARE

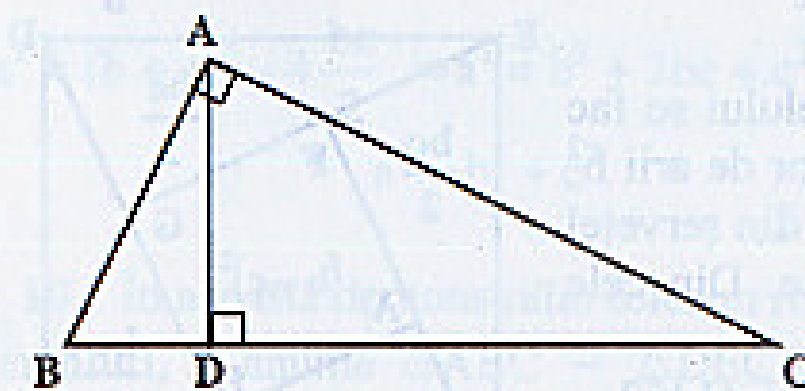
#### Demonstrații ale teoremei lui Pitagora

Această teoremă a fascinat matematicienii din toată lumea timp de 2500 ani. Mulți dintre aceștia au reușit să găsească demonstrații noi pentru marea teoremă. Unele surse vorbesc de 200 altele de 2000 de demonstrații diferite. Nu are nimeni pretenția să le învățăm pe toate, dar câteva tot merită cunoscute, mai ales că multe dintre acestea reprezintă exerciții de gândire deosebite. Pentru profesorii de matematică, dar și pentru elevii care îndrăgesc această materie, cunoașterea câtorva demonstrații ale teoremei lui Pitagora este obligatorie.

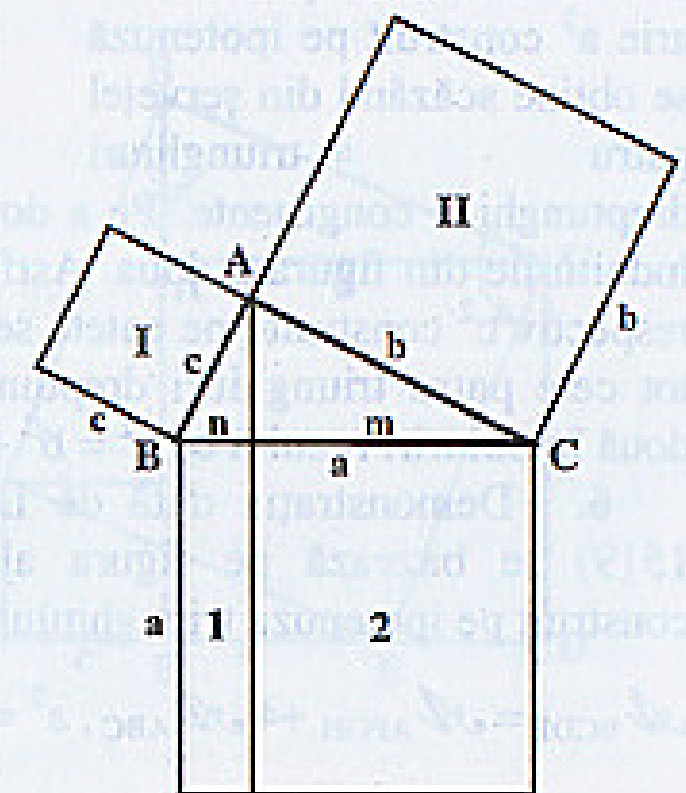
1. O primă demonstrație intuitivă se bazează pe forfecarea paralelogramelor, transformând suma pătratelor catetelor, printr-o succesiune de forfecări și translații, în pătratul ipotenuzei (vezi „predarea noțiunii de arie”, în acest caiet la pagina 7).



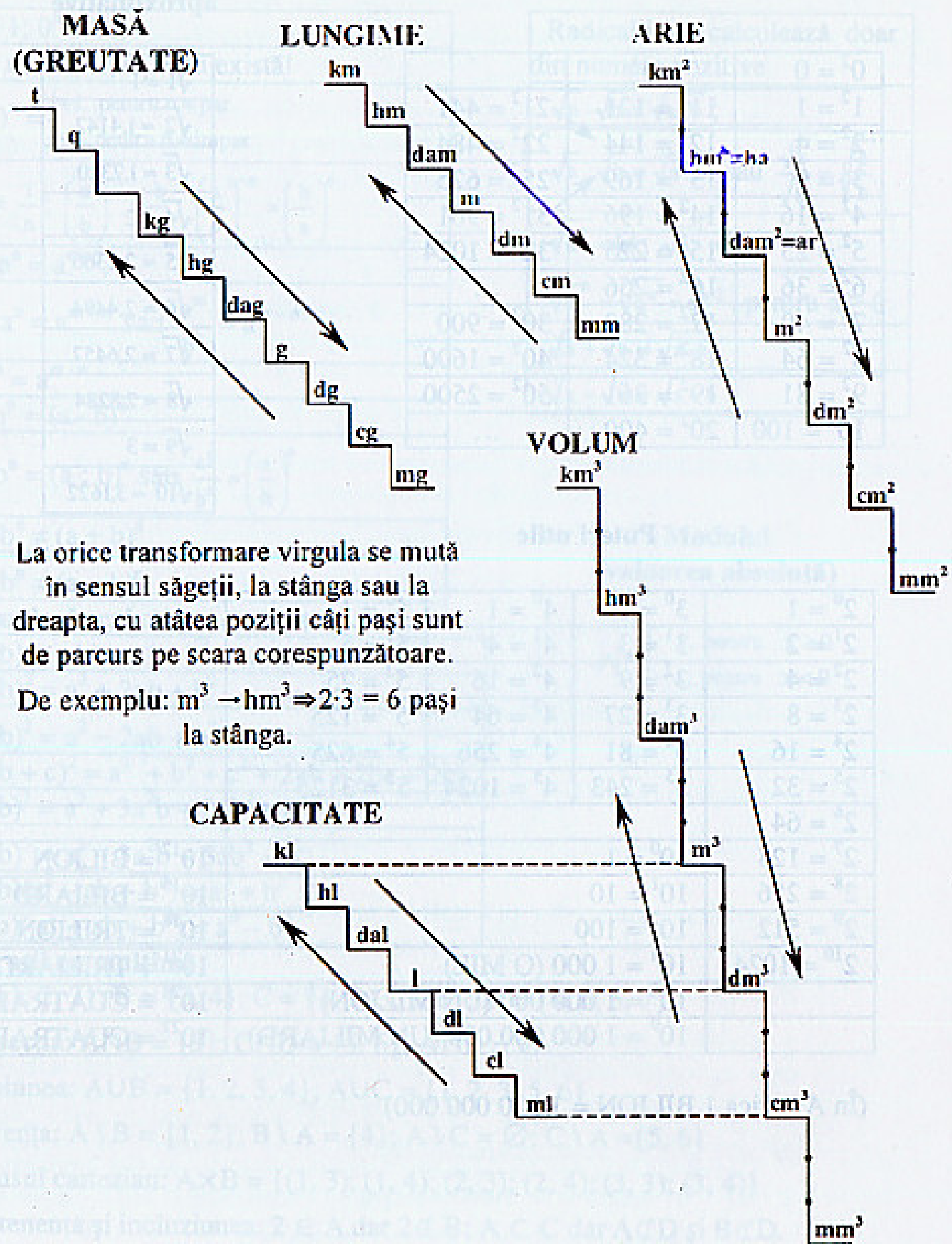
2. Următoarea demonstrație este atribuită lui Pitagora, folosind teorema catetei demonstrată prin asemănările  $\triangle ABC \sim \triangle DBA$  respectiv  $\triangle ABC \sim \triangle DAC$ . Astfel avem  $AB^2 = BD \cdot BC$  și  $AC^2 = DC \cdot BC$   
 $\Rightarrow AB^2 + AC^2 = BD \cdot BC + DC \cdot BC =$   
 $= BC \cdot (BD + DC) = BC \cdot BC = BC^2$ .



Această demonstrație poate fi evidențiată grafic prin următoarele egalități de arii:  $c^2 = n \cdot a$  și  $b^2 = m \cdot a \Rightarrow A_1 = A_1$  și  $A_{II} = A_2 \Rightarrow$   
 $A_1 + A_{II} = A_1 + A_2$  deci  $c^2 + b^2 = a^2$ .

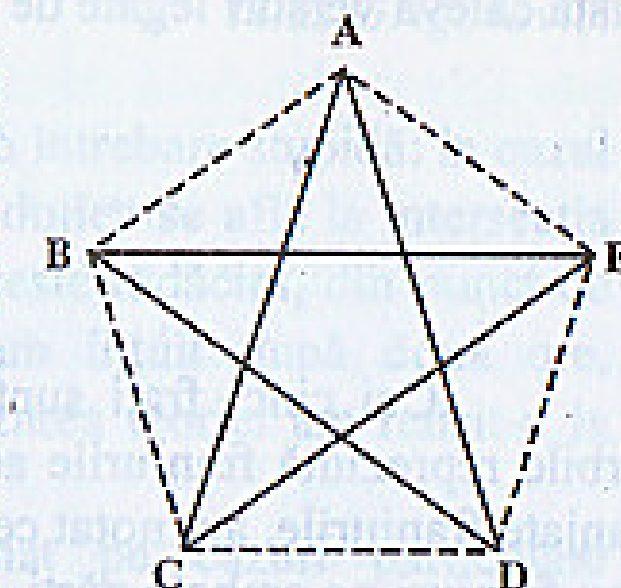


Unități de măsură



Farmecul pentagramei

Misterioasa pentagramă, steaua în cinci colțuri, a atras din cele mai străvechi vremuri atenția învățaților. Aceasta se obține dacă unim din doi în doi cele cinci vârfuri ale unui pentagon, de obicei regulat. Astfel, în pentagonul ABCDE, obținem o pentagramă ACEBD. Practic, pentagrama este formată din cele cinci diagonale ale pentagonului. Observăm aici că pentagrama este singurul poligon stelat care epuizează toate diagonalele poligonului convex din care provine (deoarece toate diagonalele sunt de același tip). Totodată, se poate demonstra că pentagonul este singurul poligon care are numărul diagonalelor egal cu numărul laturilor. Pentru gimnaziu, această afirmație poate fi argumentată printr-un tabel de valori ale unei funcții  $f: L \rightarrow D$ , unde  $L$  este numărul de laturi, iar  $D$  numărul diagonalelor.

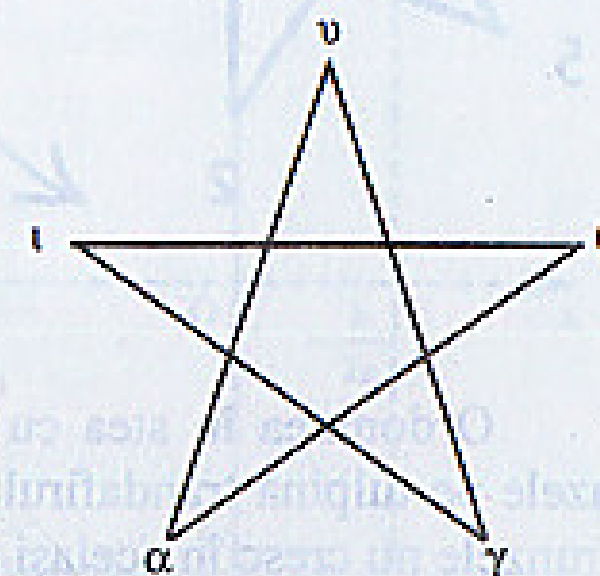


nr. laturi	3	4	5	6	7	8	9	10	etc.
nr. diagonale	0	2	5	9	14	20	27	35	etc.

În liceu demonstrăm astfel: numărul segmentelor determinate de  $n$  puncte distincte, oricare 3 necoliniare, este  $C_n^2$ . Numărul diagonalelor unui poligon cu  $n$  vârfuri este  $d_n = C_n^2 - n = \frac{n(n-1)}{2} - n = \frac{n^2 - n - 2n}{2} = \frac{n^2 - 3n}{2}$ .

Condiția  $d_n = n$ , devine:  $\frac{n^2 - 3n}{2} = n \Rightarrow n^2 - 5n = 0 \Rightarrow n_1 = 0, n_2 = 5$ , ultima fiind singura soluție posibilă.

Revenind la fascinația pentagramei, trebuie amintit aici că aceasta a reprezentat semnul de unire al pitagoreicilor, având pentru ei o semnificație mistică. Literele scrise în vârful pentagramei formau cuvântul „vγθα” (provine din cuvântul „vγτεiα”, diftongul ei fiind înlocuit cu θ), corespunzând cuvântului salut, sănătate.



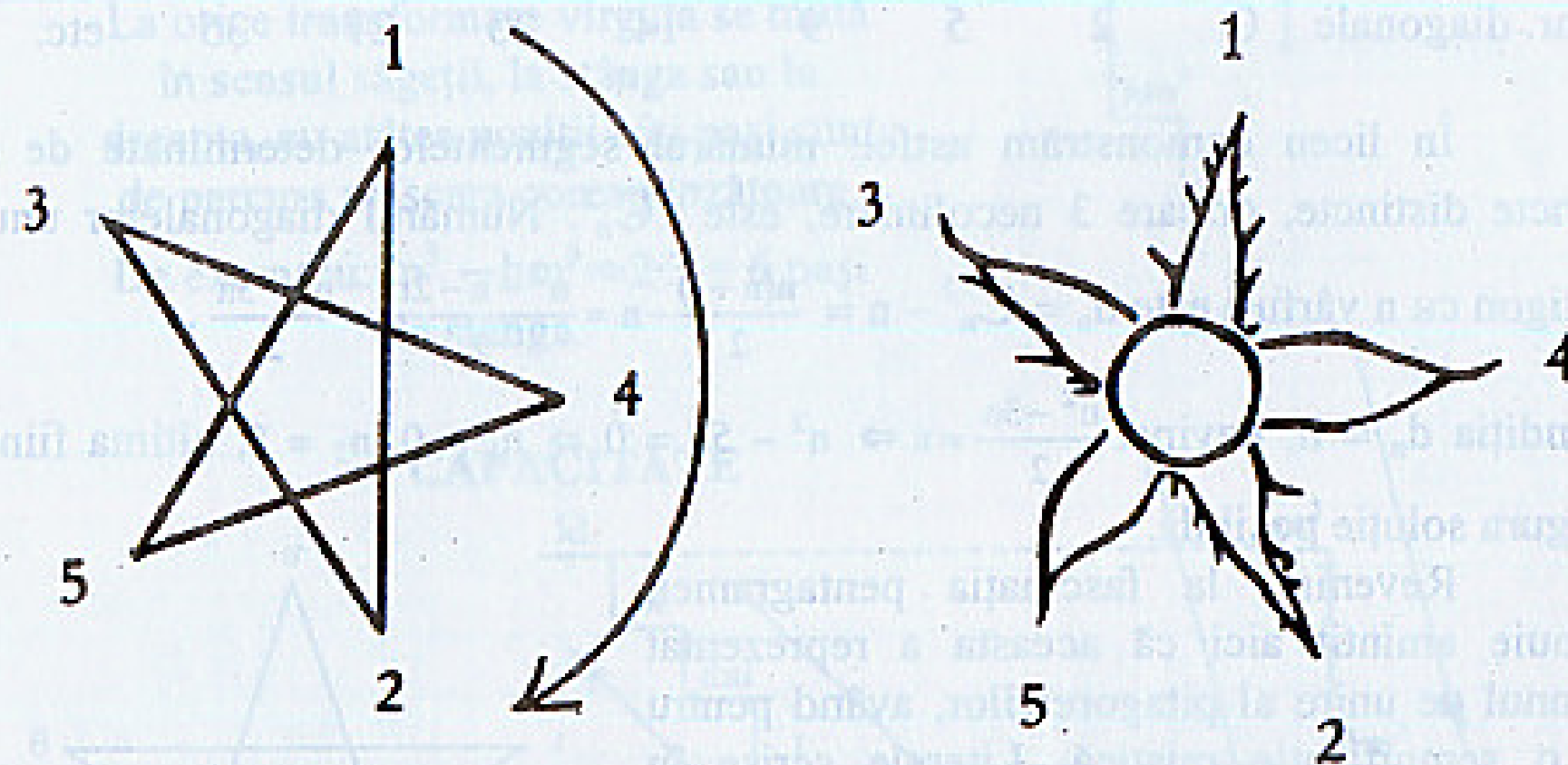
Putem și noi să cunoaștem admirația față de această minunată figură geometrică (ce lipsește din programa școlară), cercetând secretul trandafirilor. La mulți dintre aceștia vom putea observa clar că



cele cinci sepale nu sunt la fel, ci, se pare, zimțate anapoda. Din evul mediu există câteva versuri legate de acestea. Iată o traducere aproximativă din latină:

Cinci frați sunt,  
doi dintre ei bărboși,  
doi născuți fără barbă,  
Iar al cincilea  
are barbă doar pe o parte.

Cei cinci frați sunt, desigur cele cinci sepale ale unui trandafir, iar bărbile reprezintă franjurile acestora. Pentru a înțelege legitatea după care sunt aranjate franjurile, am notat cele cinci sepale cu numere de la 1 la 5. Sepalele 1 și 2 au franjuri pe ambele părți, numărul 3 are franjuri doar pe o parte, iar sepalele 4 și 5 nu au deloc franjuri. Analizând prin comparație pentagrama și cele cinci sepale, observăm că sunt guvernate de aceeași lege, ordinea în care sunt parcurse corespunzând notării ACEBD de la început. Astfel, primele două sepale au franjuri, numărul 3 nu are franjuri în partea către numărul 1, unde sunt deja, iar ultimele două nu au deloc, fiind învecinate cu franjuri în ambele părți.



Ordonarea în stea cu cinci colțuri se păstrează și în modul cum cresc frunzele pe tulpina trandafirului, dar acest fapt este mai greu de observat pentru că frunzele nu cresc în același plan.

Bibliografie:

Gerbert Grohmann – Lesebuch der Pflanzenkunde, Freiburg 1956

Mihu Cerchez – Pitagora, Editura Academiei 1986

## Reprezentarea conicelor în spațiul complex

Titus Grigorovici

Totul a început în primăvara anului 1989 cu o întrebare stupidă: în cazul când  $\Delta \geq 0$ , rădăcinile reale ale funcției de gradul al doilea se află la intersecția parabolei cu axa absciselor, dar ce se întâmplă cu aceste rădăcini, din punct de vedere grafic, atunci când  $\Delta \leq 0$ ? Răspunsul l-am intuit după două ore, demonstrația „am dat-o gata” în patru ani, iar finalizarea teoriei am reușit-o la începutul acestui an (2001).

În caietul P3NT4GON1A nr. 7 am studiat pe cazuri particulare reprezentarea parabolei, cât și a elipsei și a hiperbolei, în spațiul tridimensional complex. Astfel, am observat că orice elipsă reală are atașată o hiperbolă imaginară duală și invers. Parabola reală are atașată în acest spațiu tot o parabolă imaginară. În cele ce urmează vom studia cazul general al unei parabole, pe ecuația atașată funcției de gradul al doilea.

### 3. FORMA GENERALĂ A PARABOLEI

Fie ecuația  $y = aX^2 + bX + c$ , unde  $X = x + iz$  cu  $a, b, c \in \mathbb{R}$ ,  $a \neq 0$  (considerăm  $a > 0$ ) și  $x, y, z \in \mathbb{R}$ ,  $X \in \mathbb{C}$ . Știm că există numere complexe  $X = x + iz$  pentru care  $y \in \mathbb{R}$ . De pildă, în cazul  $\Delta < 0$  soluțiile complexe ale ecuației  $aX^2 + bX + c = 0$ , ne furnizează un număr real ( $y = 0$ ).

Pentru a reprezenta grafic parabola trebuie să căutăm toate perechile  $(X; y) \in \mathbb{C} \times \mathbb{R}$ , adică toate tripletele  $(x; z; y) \in \mathbb{R}^3$ , care verifică ecuația inițială în condițiile alese.

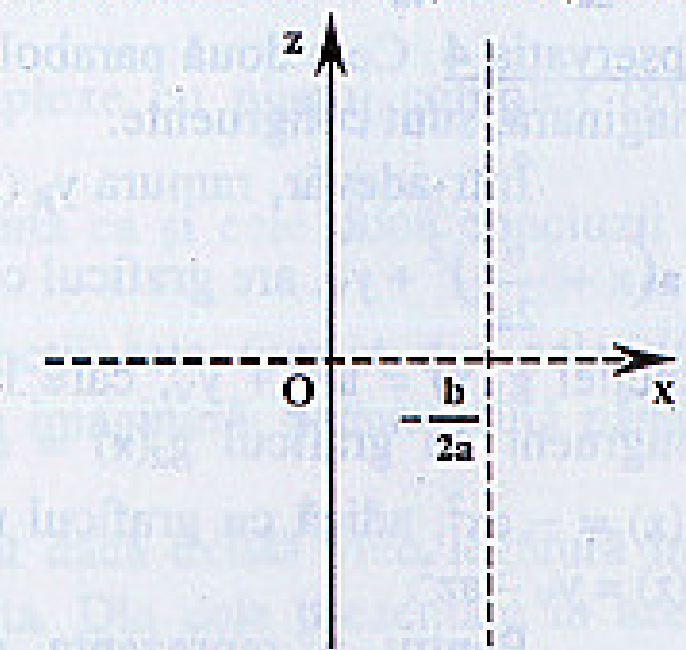
$$\begin{aligned} \text{Atașăm funcția } y : D \rightarrow \mathbb{R}, \\ y(X) = aX^2 + bX + c; \\ y(X) = y(x + iz) = a(x + iz)^2 + b(x + iz) + c = \\ = ax^2 - az^2 + 2axzi + bx + bzi + c = \\ = ax^2 + bx + c - az^2 + iz(2ax + b). \end{aligned}$$

$$\text{Deoarece } y \in \mathbb{R} \Rightarrow z(2ax + b) = 0 \Rightarrow$$

$$z = 0 \text{ sau } x = -\frac{b}{2a}. \quad (1)$$

Dacă  $z = 0 \Rightarrow X = x \in \mathbb{R}$ , pe când,

dacă  $z \neq 0 \Rightarrow x = -\frac{b}{2a} \Rightarrow X = -\frac{b}{2a} + iz$  cu  $z \in \mathbb{R}$ . Deci domeniul acestei funcții,



$$D = \mathbb{R} \cup \left\{ -\frac{b}{2a} + iz \mid z \in \mathbb{R} \right\} \subset \mathbb{C},$$

este format din două drepte perpendiculare (una dintre ele axa Ox) din planul complex.

**Observația 1** Cu toate că  $X = x + iz$ ;  $x$  și  $z$  nu variază concomitent deoarece trebuie îndeplinită condiția (1).

**Observația 2** Funcția  $y$  are două ramuri, una reală pentru  $z = 0$ , și una imaginară pentru  $x = -\frac{b}{2a}$ .

Astfel, dacă  $z = 0 \Rightarrow X = x$  și avem ramura  $y_R(x) = ax^2 + bx + c$ ,  
 $y_R: \mathbb{R} \rightarrow \mathbb{R}$ . Graficul acestei ramuri este parabola arhicunoscută de ecuații  $z = 0$  și  $y = ax^2 + bx + c$ .

Dacă  $z \neq 0$  și  $x = -\frac{b}{2a} \Rightarrow X = -\frac{b}{2a} + iz$  avem ramura  $y_I(z) = y_V - az^2$ ,  
 $y_I: \left\{ -\frac{b}{2a} + iz \mid z \in \mathbb{R} \right\} \rightarrow \mathbb{R}$ . Graficul acestei ramuri este o parabolă de ecuații  $x = -\frac{b}{2a}$  și  $y = y_V - az^2$ . Într-adevăr, dacă  $X = -\frac{b}{2a} + iz \Rightarrow$

$$y(X) = a\left(-\frac{b}{2a} + iz\right)^2 + b\left(-\frac{b}{2a} + iz\right) + c = \dots = y_V - az^2.$$

Cele două parabole, cea reală și cea imaginară, formează împreună reprezentarea grafică a funcției de gradul al doilea. Să studiem această situație:

**Observația 3** Funcția  $y$  este continuă, cele două parabole având vârful comun.

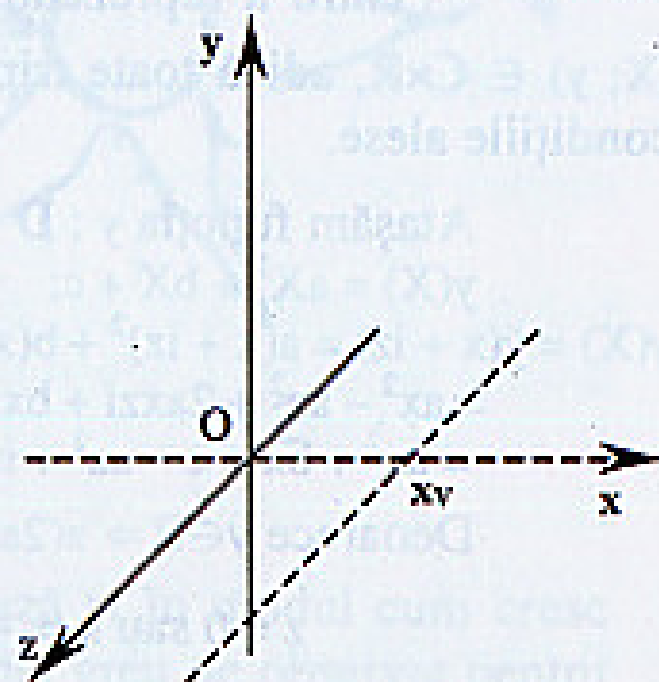
$$y_R\left(-\frac{b}{2a}\right) = -\frac{\Delta}{4a} = y_V = y_I(0).$$

**Observația 4** Cele două parabole, cea reală și cea imaginară, sunt congruente.

Într-adevăr, ramura  $y_R(x) = ax^2 + bx + c = a\left(x + \frac{b}{2a}\right)^2 + y_V$ , are graficul congruent cu cel al funcției  $g_1(x) = ax^2 + y_V$ , care la rândul său este congruent cu graficul  $g_2(x) = ax^2$  și cu graficul  $g_3(x) = -ax^2$ , adică cu graficul ramurii imaginare  $y_I(z) = y_V - az^2$ .

Pentru a reprezenta grafic cele două ramuri, am ales sistemul ortogonal de axe Oxyz cu axele reale Ox și Oy (versor 1) și axa imaginară Oz (versor i).

Astfel,  $y$  variază în funcție de  $X = x + iz \in D$  cuprins în planul complex ( $xOz$ ).



În figura alăturată am reprezentat grafic cele două parabole în cazul când  $\Delta < 0$  și  $a > 0$ . Vom numi parabola complexă, reprezentarea grafică formată din cele două parabole, cea reală din planul  $z = 0$  și cea imaginară din planul  $x = -\frac{b}{2a}$ .

**Observația 5** În cazul  $\Delta < 0$  parabola complexă intersectează planul complex ( $xOz$ ) în punctele

$$X_{1,2} = -\frac{b}{2a} \pm i \frac{\sqrt{|\Delta|}}{2a}.$$

Într-adevăr, dacă  $y = 0 \Leftrightarrow y_V - az^2 = 0 \Leftrightarrow z^2 = \frac{y_V}{a} = -\frac{\Delta}{4a^2}$ . Deoarece  $\Delta < 0 \Rightarrow$

$$z_{1,2} = \pm \frac{\sqrt{|\Delta|}}{2a} \text{ și } x = -\frac{b}{2a} \Rightarrow$$

$$X_{1,2} = -\frac{b}{2a} \pm i \frac{\sqrt{|\Delta|}}{2a}.$$

Ca răspuns la întrebarea inițială, concluzionăm că rădăcinile complexe ale funcției de gradul al doilea se găsesc la intersecția parabolei complexe cu planul complex ( $xOz$ ) perpendicular pe axa Oy.

Întrebarea inițială nu este însă atât de importantă ca și cele două concluzii ale acestei teorii.

**Concluzia 1:** Graficul complet al acestei funcții este format din cele două parabole, cea reală cunoscută de oricine și cea imaginară, necunoscută până în acest moment.

**Concluzia 2:** Mulți matematicieni s-au întrebat dacă există vreo legătură între planul real și cel complex, și care ar fi aceasta. Din cele prezentate în aceste pagini se vede că aceste două plane sunt poziționate perpendicular unul față de celălalt. ● ⊙

