

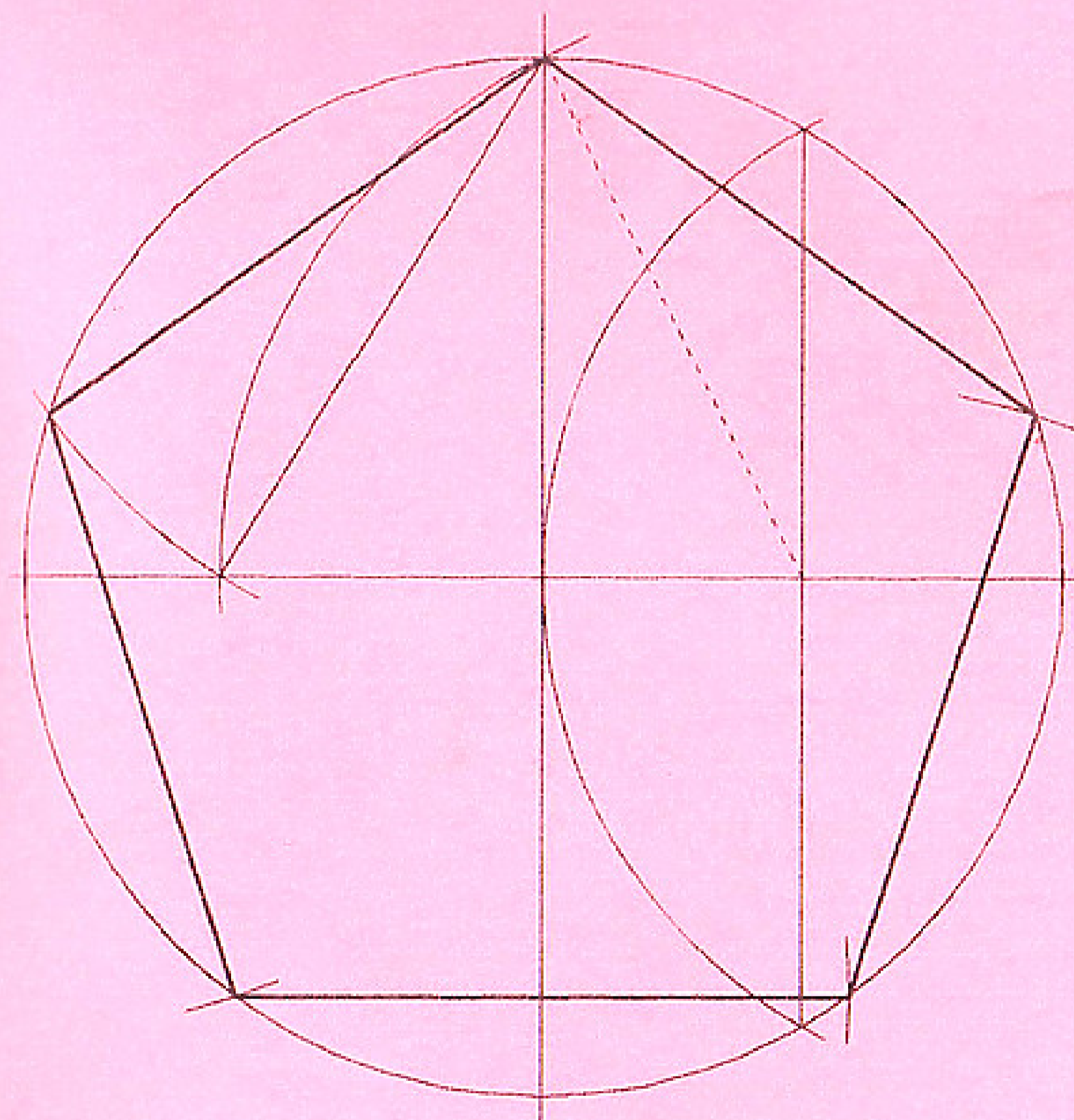
În caietul din septembrie:

- Numere pitagorice
- Desene pe pătrățele
- 101 ecuații cu parametrii
- Predarea geometriei în spațiu
- Pentagon-dodecaedrul

ISBN 973-96533-9-1
EDITURA TRIADE 1998

NUMĂRUL 2 - APRILIE 1998

P3NT4GON1A



CAIET TRIMESTRIAL
DE MATEMATICĂ

Ce noroc pe noi, românii, să avem așa copii deștepți. Și ei devin, de la an la an, tot mai capabili și mai inteligenți. Astfel, dacă în urmă cu 20 ani, elevii învățau despre ecuații în clasa a VII-a, acum le studiază începând din ciclul primar. Iar probleme date la olimpiada republicană în anii 80, sunt depășite, ca dificultate, de probleme date în prezent la examenele de admitere în licee.

Totuși, ceva este "putred" în acest tablou de vis. Din cauza încălcării continue și a teoretizării excesive, mulți elevi au pierdut contactul cu matematica, părți întregi de materie rămânând efectiv "de căruță". În școala generală, cel mai vast domeniu aflat în această situație este demonstrația geometrică. Limbajul tot mai greoi, obligat a îndeplini cerințe de rigurozitate mult prea înalte, dar și ambiția profesorilor de a rezolva la ore probleme tot mai grele, pentru olimpiade, au dus la crearea unei prăpăstii între elevi și geometrie. Puținele probleme clasice și accesibile rămase nu pot da elevilor o imagine completă, despre demonstrațiile geometrice, iar problemele "tari" reușesc doar să-i deruteze și să-i alunge. În schimb, lecțiile frumoase, cum ar fi pentagonul regulat sau octaedrul regulat, sunt demult și pe nedrept uitate, doar pentru că nu pot oferi probleme deosebite pentru concursuri.

Dar nu numai problemele și ordonarea materiei necorespunzătoare capacității și vârstei elevilor lasă de dorit. Și introducerea noțiunilor și ordonarea lecțiilor după modelul universitar, gândite pentru persoane ce au cunoscut deja materia, dar aplicate elevilor care nu au nici o idee despre ce va fi vorba în lecție, sunt contrare principiilor elementare de pedagogie. Iată două scurte exemple: în manualul de clasa a IX-a se vorbește cinci pagini despre numere complexe sub formă de perechi până a se introduce numărul i , iar la studiul ariilor din clasa a VII-a se pornește prin definirea ariei triunghiului, în loc să se înceapă cu aria dreptunghiului ca fiind figura de bază ce se compune din pătrate (unitatea de măsură pentru arie).

Astfel, mulți copii capabili sunt jefiți pe altarul acestei rigurozități greșit înțelese. Elevi, care ar înțelege și ar învăța matematica cu plăcere, nu fac față pentru că ștacheta este fixată mult prea sus.

Revenind la demonstrația geometrică, ne punem, pe bună dreptate, întrebarea: cum s-ar putea ieși din această criză, în condițiile în care programa rămâne aceeași? Sfârșitul clasei a VII-a este potrivit unei deșteptări în ceea ce privește geometria. Acum este momentul unei recapitulări, pentru care am pregătit un set de probleme corespunzătoare, dar și zece demonstrații deosebite ale teoremei lui Pitagora. Parcurse conștiincios, sub îndrumarea dascălului, acestea vor împriști ceața care înconjoară elevul în căutările sale de înțelegere a geometriei.

CUPRINS

- * 10 demonstrații ale Teoremei lui Pitagora (cl. VII-a)
- * Pentagonul regulat (cl. VII-a)
- * Modulul pe înțelesul tuturor (cl. VII, VIII-a)
- * Irraționalitatea lui $\sqrt{2}$ (cl. VI-a)
- * Corpuri platonice (cl. VIII, X-a)
- * Apariția numerelor complexe - Introducerea noțiunii prin întrebări (cl. IX-a)
- * Problema sârmei pe Ecuator.
- * 101 probleme de geometrie plană (cl. VII-a)

Acest caiet a apărut cu sprijinul Fundației "Ars Pedagogica" și al imprimeriei PRINTEK, Cluj.

Comenzi, sugestii și propuneri de probleme sau teme de abordat sunt așteptate la adresa redacției: Titus Grigorevici, str. Fabricii, nr. 9, ap. 27, 3400 Cluj-Napoca, sau la Editura Triade CP 1-400, 3400 Cluj-Napoca.

10 DEMONSTRAȚII ALE TEOREMEI LUI PITAGORA

1) "Cum a descoperit Pitagora teorema sa"

Basn matematic de Guido Hauck (continuare)

Văzând cum a făcut Pitagora pace în triunghiul dreptunghic isoscel, vecinul acestuia, un triunghi dreptunghic oarecare, a luat imediat drumul spre Pitagora și l-a rugat să-i confecționeze și lui șorturi. Acesta se scărpină în cap și spuse: "Hm, asta nu va merge la fel de ușor ca la celălalt triunghi. Dar să încercăm!"

Ajungând la tăbăcar, Pitagora a scos din rămășițele de piele existente 8 bucăți triunghiulare cu forma și mărimea exact ca ale triunghiului folosit ca șablon. Apoi, a încercat din nou să coasă împreună 4 din cele 8 triunghiuri și să le dea forma unui pătrat. A obținut astfel din nou un șorț de formă pătrată, ca și la triunghiul isoscel, numai că în mijlocul acestuia era o gaură. Ea avea forma unui pătrat cu latura egală cu diferența celor două catete (fig. 1).

După aceea, din cele patru triunghiuri rămase a cusut, ca și mai înainte, câte două de-a lungul ipotenuzelor. Ce a ieșit nu au fost desigur pătrate ca și la triunghiul isoscel, ci doar două dreptunghiuri identice.

Pitagora nu-și pierdu cumpătul, ci prinse cu latura mai mare unul dintre dreptunghiuri la brâul catetei mai mari, pe celălalt dreptunghi îl prinse cu latura mai îngustă pe brâul catetei mai mici și spuse: "Un șorț este prea scurt iar celălalt prea lung. Aici trebuie să mai echilibrăm puțin diferența". (fig. 1)

Tăie apoi o bucată din șorțul lung, astfel că mai rămase un pătrat de latură egală cu cateta mică.

Cusu apoi bucata tăiată de dreptunghiul care atârna pe cateta mare.

Astfel, latura mică a ajuns să aibă și ea o lungime egală cu a catetei mari, iar șorțul să aibă forma aproape de a unui pătrat, cu excepția unei porțiuni din colț care a rămas goală. (fig. 2)

Când Pitagora se uită mai bine la forma golului spuse: "Acesta este fără îndoială un pătrat, cu latura egală cu diferența catetelor. Ea este, așadar, la fel de mare ca și gaura din interiorul șortului ipotenuzei". A croit două bucăți de piele de această formă și le-a cusut în cele două găuri rămase, după care deveni tot mai îngândurat. Deodată sări în sus de bucurie și strigă:

"Ura, uitați-vă aici! Pătratul ipotenuzei se compune din aceleași bucăți ca și cele două pătrate ale catetelor, și anume patru triunghiuri dreptunghice și un petec pătrat. Deci teorema este valabilă în general și pentru triunghiuri dreptunghice cu catetele inegale: **PĂTRATUL IPOTENUZEI ESTE EGAL CU SUMA PĂTRATELOR CATETELOR**. Aceasta se cheamă teorema lui

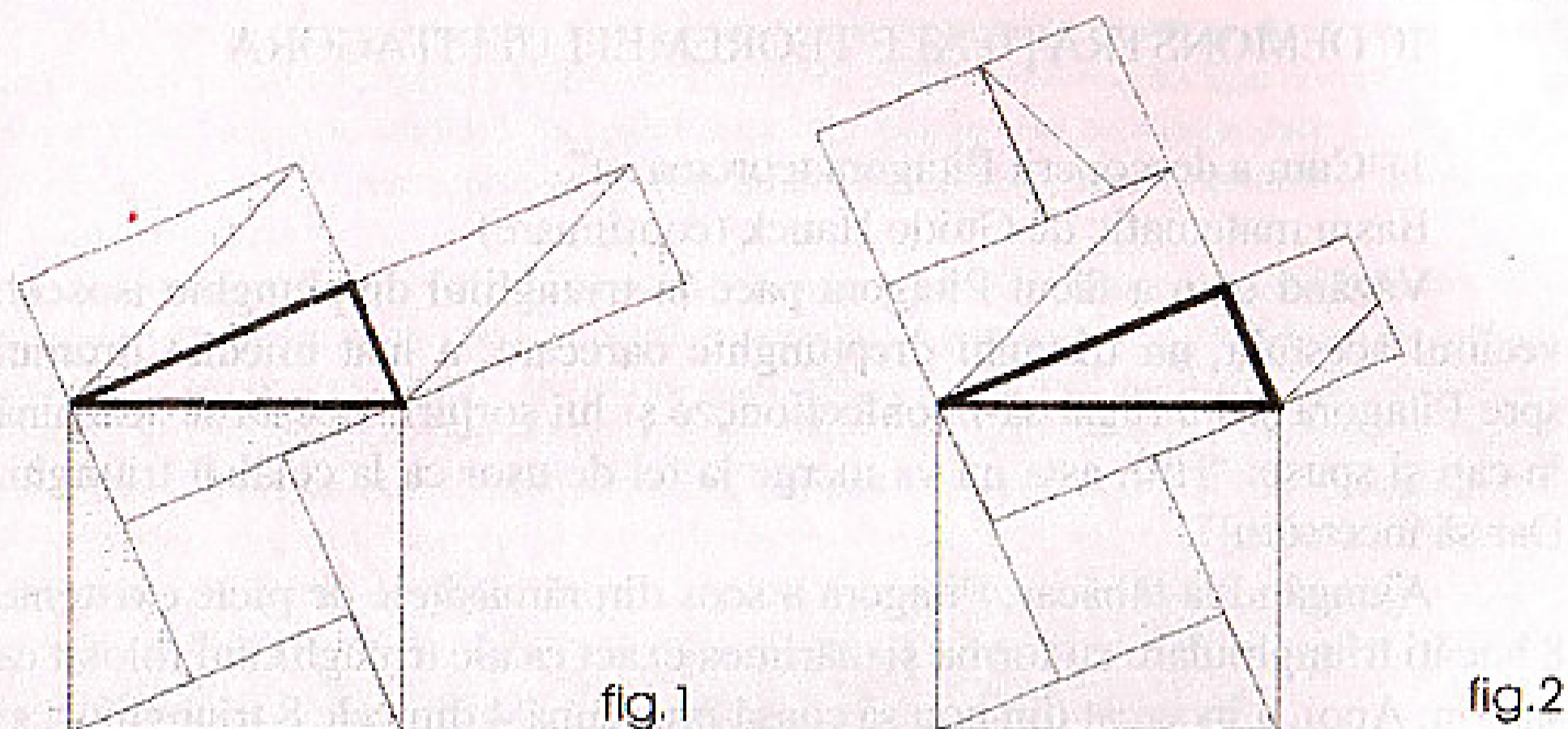


fig.1

fig.2

Pitagora. Poți fi mândru de acest fapt, triunghiule dreptunghic. Mergi acum iute acasă și fă cunoscut aceasta și tovarășilor tăi!”

Plin de bucurie triunghiul se grăbi să se întoarcă acasă cu șorțurile sale noi și vesti pe toate străzile din Trigononia noutatea. Aceasta făcu vâlvă mare și peste tot se auzea răsunând: “Pătratul ipotenuzei este egal cu suma pătratelor catetelor”. Fiecare triunghi vroia să verifice teorema pe el însuși și astfel veniră toate alergând la Pitagora să-l roage să le croiască și lor șorțuri.

Acesta însă, le spuse: “Afacerea este cam încurcată. Cele câteva resturi de piele pe care tăbăcarul le mai avea în magazie s-au consumat și el nu mai are altă marfă. Dar trebuie să fie o soluție. Lăsați-mă să mă gândesc!”

După aceea, Pitagora a mers în ocolul vitelor și și-a ales o sută de boi grași. Pe aceștia i-a sacrificat și i-a jertfit zeilor, ca mulțumire pentru faptul că ei i-au inspirat frumoasa teoremă. Pieile însă, le-a dus la tăbăcar ca să le pregătească și să confecționeze prietenilor săi șorțurile dorite. Îi invită apoi pe toți la sărbătoarea de jertfă. Până noaptea târziu au șezut împreună, triumphiurile glorificându-l pe Pitagora și cântând:

“Pitagora ne-a dat teorema

Vitele-o știu pe propria piele.

Învaț-o degrabă de teama

Să n-ajungi să fii printre ele!”

2) Următoarea demonstrație este atribuită lui Pitagora, folosind teorema catetei demonstrată prin asemănările $\triangle ABC \sim \triangle DBA$ respectiv $\triangle ABC \sim \triangle DAC$.

Astfel avem $AB^2 = BD \cdot BC$ și $AC^2 = DC \cdot BC$

$\Rightarrow AB^2 + AC^2 = BD \cdot BC + DC \cdot BC = BC \cdot (BD + DC) = BC \cdot BC = BC^2$

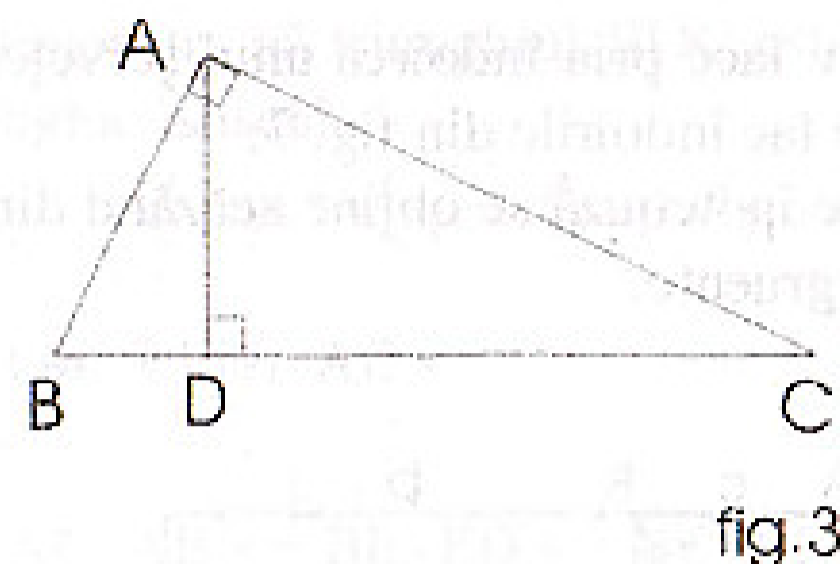


fig.3

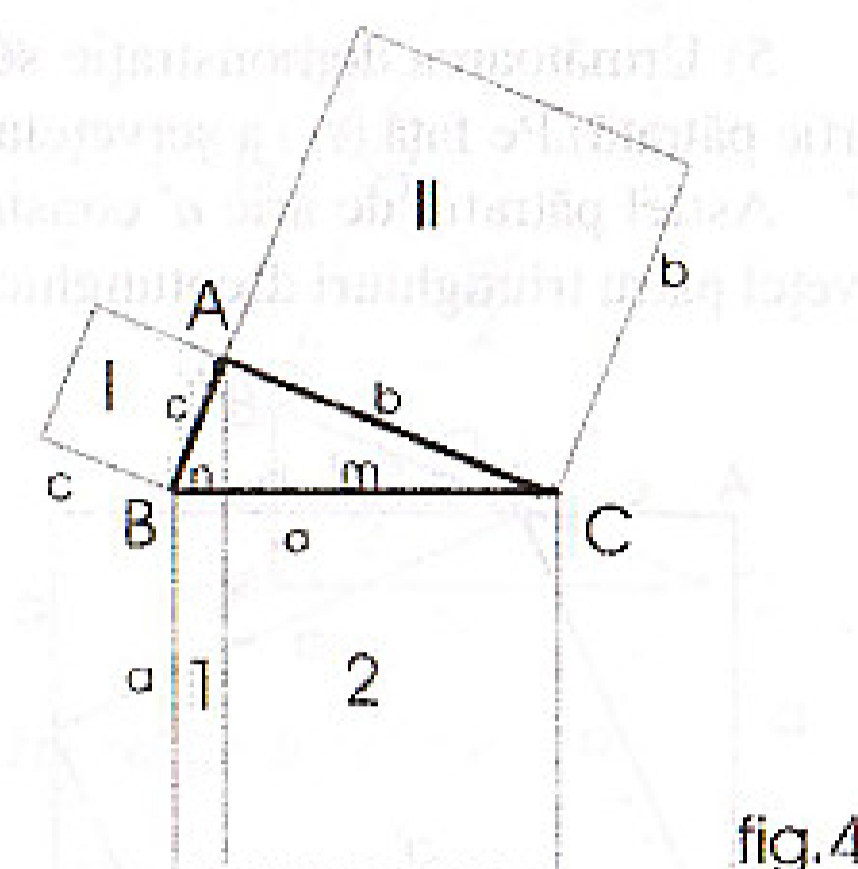


fig.4

Această demonstrație poate fi evidențiată grafic prin următoarele egalități de arii:

$$c^2 = n \cdot a \text{ și } b^2 = m \cdot a \Rightarrow A_I = A_1 \text{ și } A_{II} = A_2 \Rightarrow A_I + A_{II} = A_1 + A_2 \text{ deci } c^2 + b^2 = a^2$$

3) În demonstrația dată de Euclid, în ale sale ELEMENTE, echivalența de arii $A_I = A_1$ este demonstrată astfel:

$$\begin{aligned} A_I &= A_{ABDE} = 2 A_{ABD} = \\ &= 2 A_{CBD} = 2 A_{ABK} = 2 A_{HBK} = \\ &= A_{HBKI} = A_1 \end{aligned}$$

La fel se demonstrează $A_{II} = A_2$ de unde rezultă că $AB^2 + AC^2 = BC^2$

Congruența $\triangle DBC = \triangle ABK$ se demonstrează în problema 104 de la pagina 28.

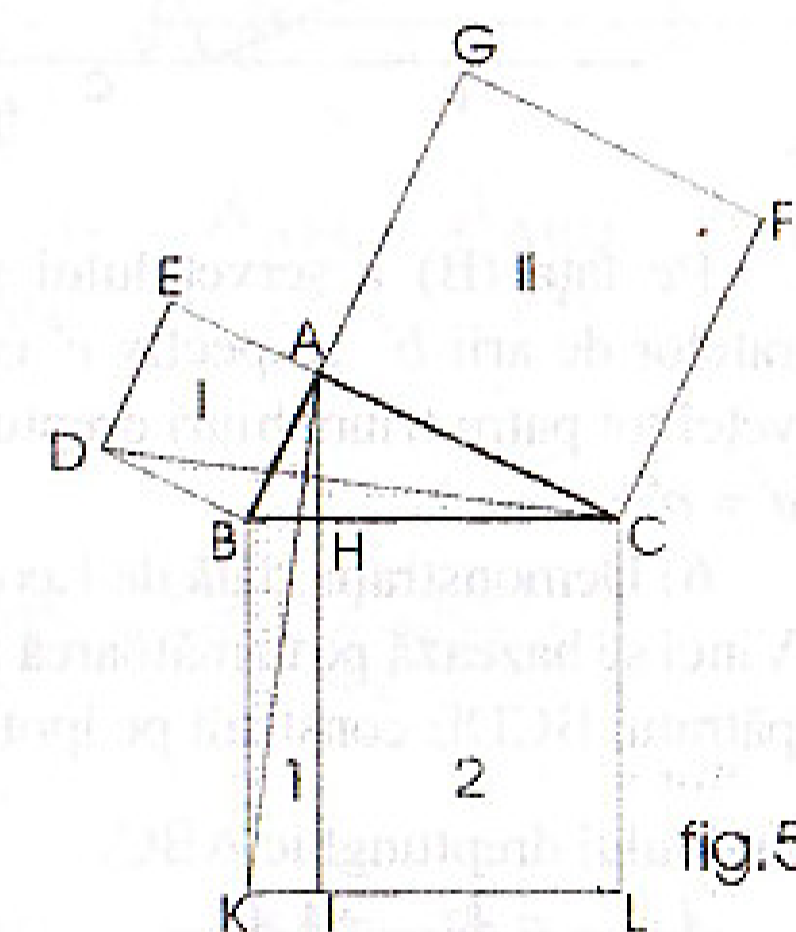


fig.5

4) O variantă a demonstrației 2) este următoarea:

$$\triangle ABC \sim \triangle DBA \Rightarrow \frac{c}{a} = \frac{x}{c} \Rightarrow c^2 = ax$$

$$\triangle ABC \sim \triangle DAC \Rightarrow \frac{b}{a} = \frac{a-x}{b} \Rightarrow b^2 = a^2 - ax$$

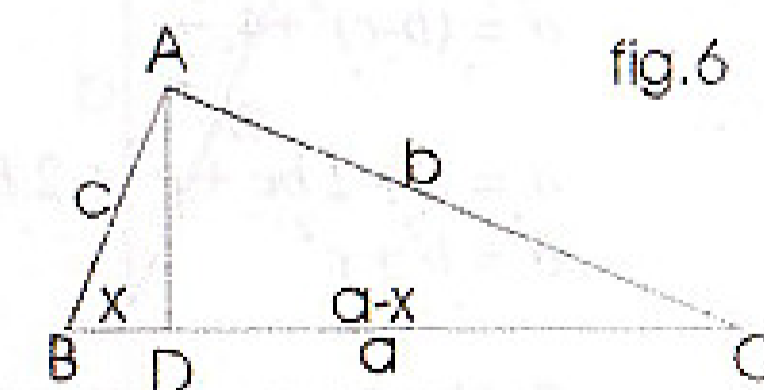
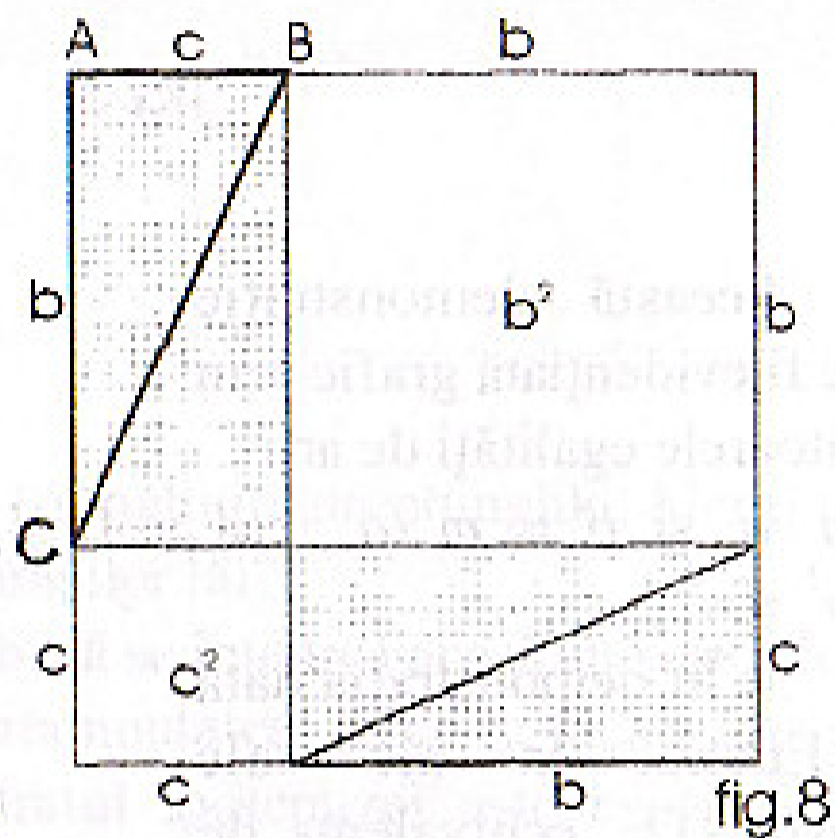
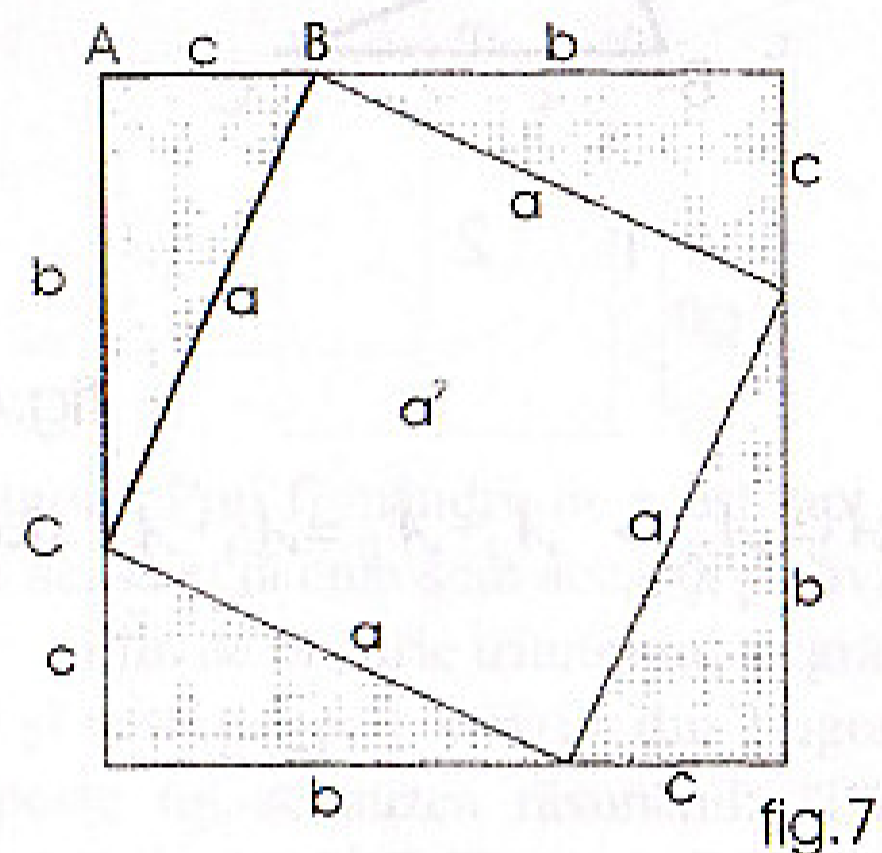


fig.6

Adunând ultimele relații obținem $c^2 + b^2 = ax + a^2 - ax \Rightarrow c^2 + b^2 = a^2$.

5) Următoarea demonstrație se poate face prin îndoirea unui șervețel (hârtie pătrată). Pe față (A) a șervețelului se fac îndoirile din fig. 7.

Astfel pătratul de arie a^2 construit pe ipotenuză se obține scăzând din șervețel patru triunghiuri dreptunghice congruente.



Pe față (B) a șervețelului se fac îndoirile din fig. 8. Astfel suma pătratelor de arii b^2 respectiv c^2 construite pe catete se obține scăzând din șervețel tot patru triunghiuri dreptunghice congruente. Din (A) și (B) rezultă că $a^2 = b^2 + c^2$.

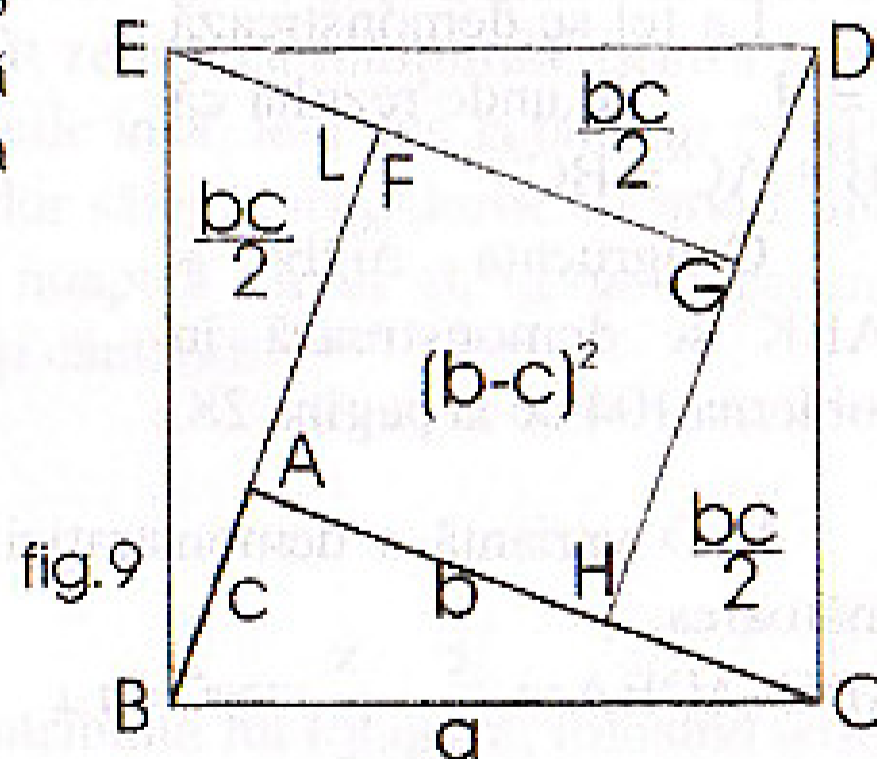
6) Demonstrația dată de Leonardo da Vinci se bazează pe următoarea figură cu pătratul BCDE construit pe ipotenuza triunghiului dreptunghic ABC.

$$A_{BCDE} = A_{A'B'GH} + 4A_{ABC}$$

$$a^2 = (b-c)^2 + 4 \frac{bc}{2}$$

$$a^2 = b^2 - 2bc + c^2 + 2bc$$

$$a^2 = b^2 + c^2$$



7) Următoarea demonstrație, dată de Abraham Garfield fost președinte al Statelor Unite, folosește descompunerea trapezului dreptunghic ACDE din figura 10.

Știind că $\triangle ABC \cong \triangle EDB$ se poate demonstra că triunghiul BDC este dreptunghic isoscel.

$$A_{ACDE} = A_{ABC} + A_{BED} + A_{BCD}$$

$$\frac{1}{2}(AC + ED) \cdot AE =$$

$$\frac{1}{2}AC \cdot AB + \frac{1}{2}BE \cdot ED + \frac{1}{2}BC \cdot BD \quad | \cdot 2$$

$$(b+c)(b+c) = bc + bc + a^2 \Rightarrow b^2 + 2bc + c^2 = 2bc + a^2 \Rightarrow b^2 + c^2 = a^2$$

8) Folosind asemănarea triunghiurilor și proporțiile derivate, obținem următoarea demonstrație:

$$\triangle ABC \sim \triangle DBA \sim \triangle DAC \Rightarrow$$

$$\frac{AD}{BC} = \frac{DE}{AB} = \frac{DF}{AC} \Rightarrow \frac{AD \cdot BC}{2BC^2} = \frac{DE \cdot AB}{2AB^2} = \frac{DF \cdot AC}{2AC^2} \Rightarrow \frac{A_{ABC}}{a^2} = \frac{A_{ABD}}{c^2} = \frac{A_{ADC}}{b^2}$$

$$\text{Dar } \frac{A_{ABD}}{c^2} = \frac{A_{ADC}}{b^2} = \frac{A_{ABD} + A_{ADC}}{c^2 + b^2}$$

$$\text{Din ultimele două relații se obține că: } \frac{A_{ABC}}{a^2} = \frac{A_{ABD} + A_{ADC}}{c^2 + b^2}$$

Numărătorii fiind egali obținem că:

$$a^2 = b^2 + c^2$$

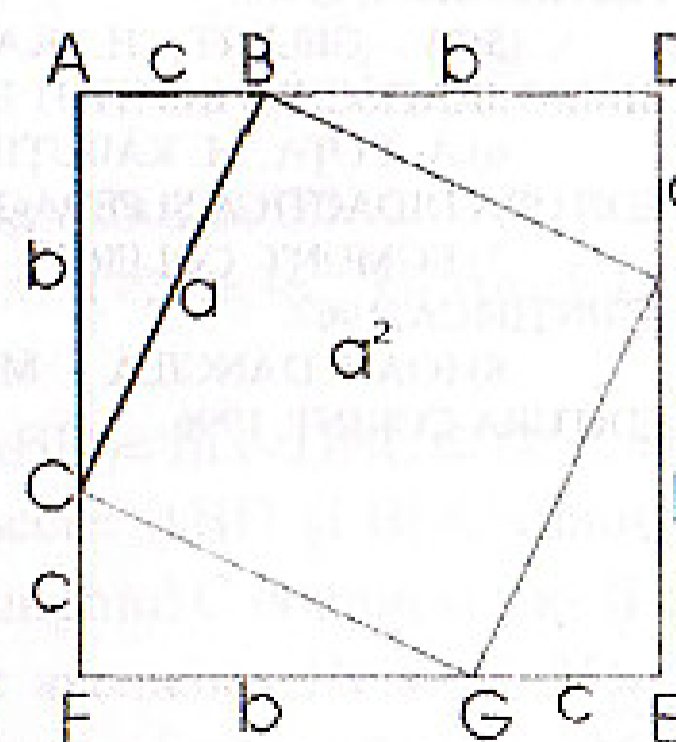
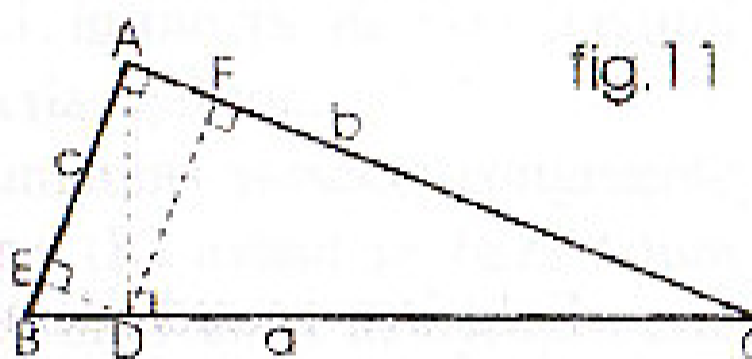
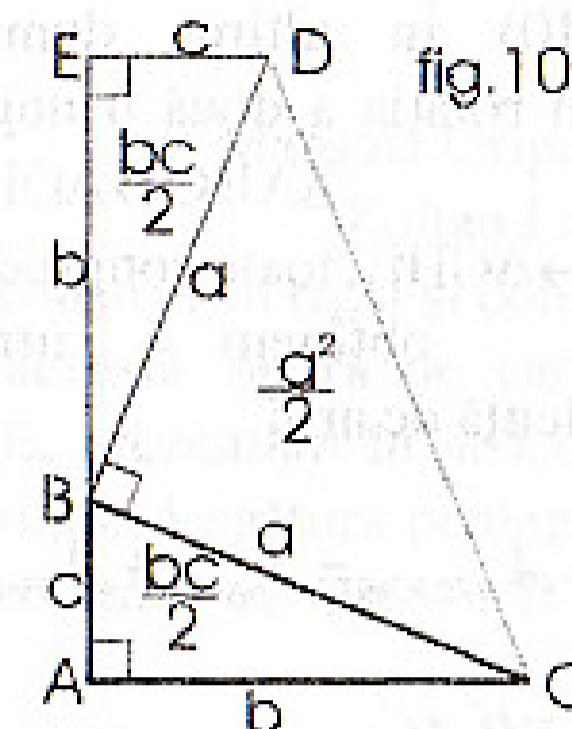
9) O demonstrație foarte simplă se obține din figura alăturată astfel:

$$A_{BCGH} = A_{ADIF} - 4A_{ABC}$$

$$a^2 = (b+c)^2 - 4 \frac{bc}{2}$$

$$a^2 = b^2 + 2bc + c^2 - 2bc$$

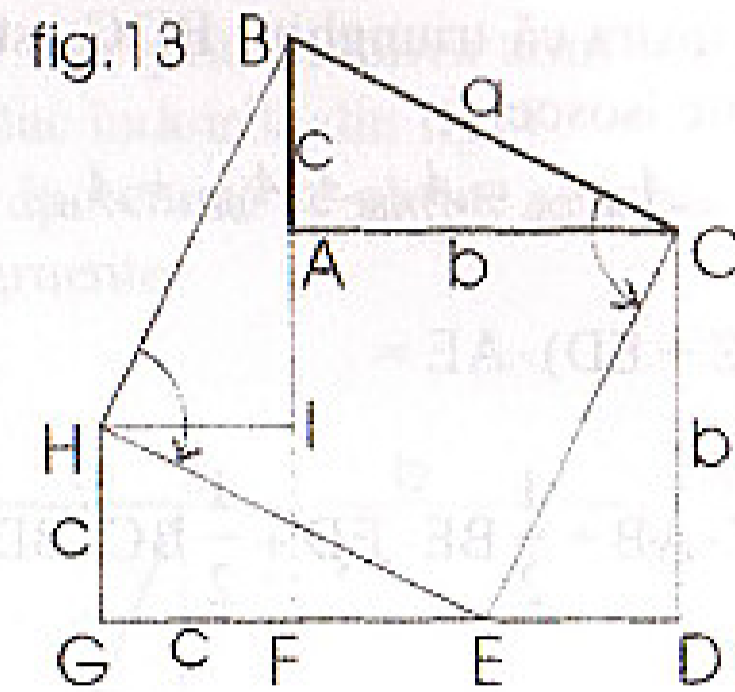
$$a^2 = b^2 + c^2$$



10) În ultima demonstrație folosim rotația a două triunghiuri, și anume $\triangle ABC \rightarrow \triangle DEC$ și $\triangle HIB \rightarrow \triangle GHE$, toate congruente. Astfel obținem următoarea echivalență de arii:

$$A_{BCBH} = A_{ACDGH} = A_{ACDF} + A_{FGHI}$$

$$\text{deci } a^2 = b^2 + c^2$$



Folosirea acestor demonstrații în finalul clasei a VII-a poate oferi elevilor o vedere mai largă asupra mării varietăți de demonstrații folosite în geometrie, toate aplicate pe cea mai renumită teoremă a matematicii.

BIBLIOGRAFIE

- 1) ARNOLD BERNHARD - GEOMETRIE; EDITURA ARHETIP, 1995.
- 2) MIHU CERCHEZ - PITAGORA; EDITURA ACADEMIEI R.S.R. 1986.
- 3) MATHEMATIK - KLEINE ENZYKLOPADIE; VERLAG ENZYKLOPADIE LEIPZIG, 1968.
- 4) A. HOLLINGER - MATEMATICĂ CL. A-VII-A; EDITURA DIDACTICĂ ȘI PEDAGOGICĂ, 1970.
- 5) W. GELERT, H. KASTNER, S. NEUBER - LEXIKON DER MATHEMATIK; BIBLIOGRAFISCHES INSTITUT LEIPZIG, 1979.
- 6) A. COȚA, M. RĂDUȚIU, M. RADO, F. VORNICESCU - MATEMATICĂ CL. A-IX-A; EDITURA DIDACTICĂ ȘI PEDAGOGICĂ, 1989.
- 7) EGMONT COLERUS - DE LA TABLA ÎNMULȚIRII LA INTEGRALĂ; EDITURA ȘTIINȚIFICĂ, 1967.
- 8) IOAN DĂNCILĂ - MATEMATICA GIMNAZIULUI ÎNTRE PROFESOR ȘI ELEV; EDITURA CORINT, 1996.

PENTAGONUL REGULAT

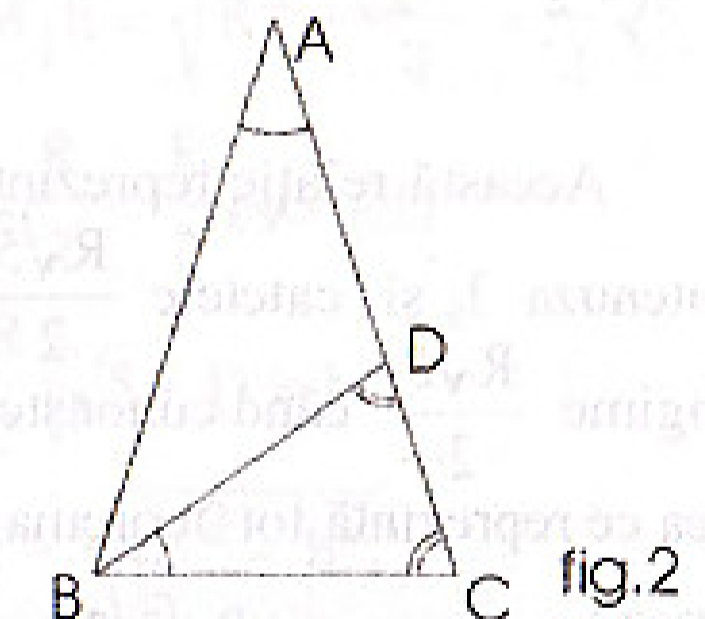
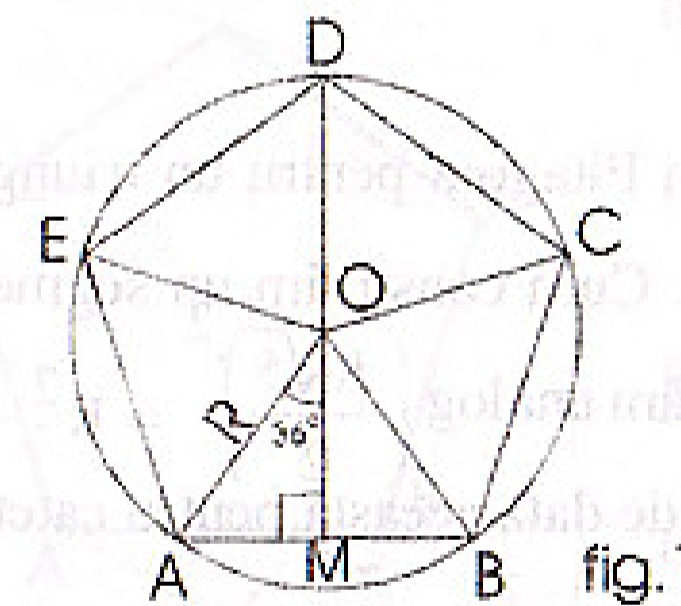
Mariana Grigorovici
Zoltan Labancz

Poligonul regulat cu cinci laturi se poate construi cu rigla și compasul. Din multitudinea de date acumulate despre această figură de care s-au pasionat toți marii matematicieni ai antichității, prezentăm în articolul de față trei construcții; două dintre ele cu demonstrație. Legătura pentagonului și a pentagramei (steaua cu cinci colțuri) cu secțiunea de aur vor fi tratate într-un număr viitor al revistei.

În structura actuală a programei, lecția de față se potrivește în clasa a IX-a, dar poate fi studiată și la cercul de matematică din clasa a VII-a. Cele trei construcții pot fi însă efectuate fără demonstrație în gimnaziu.

Mai întâi să calculăm latura pentagonului, în funcție de raza cercului circumscris, pentru a putea "descoperi" construcția acestuia.

Acest poligon este format din cinci triunghiuri isoscele congruente formate cu ajutorul razelor cercului circumscris (R) având ca bază latura pentagonului (l_5). Măsura unghiului de la vârf al unui astfel de triunghi este de $360^\circ : 5 = 72^\circ$ iar la bază de câte $(180^\circ - 72^\circ) : 2 = 54^\circ$. Din $\triangle AOM$ ($OM \perp AB$) deducem: $AM = R \sin 36^\circ$ sau $l_5 = 2R \sin 36^\circ$. (fig.1)



Cum calculăm o funcție trigonometrică a unghiului de 36° ?

Considerăm triunghiul isoscel ABC cu $m(\angle A) = 36^\circ$ și $m(\angle B) = m(\angle C) = 72^\circ$, numit și triunghiul de aur. (fig.2)

Fie $[BD]$ bisectoarea $\angle B$, $D \in [AC] \Rightarrow m(\angle ABD) = m(\angle DBC) = 72^\circ : 2 = 36^\circ$. Astfel s-au format încă două triunghiuri isoscele: ABD și BDC dintre care al doilea asemenea cu triunghiul ABC având unghiul C comun și $m(\angle B) = m(\angle A) = 36^\circ$. Notăm $AD = BD = BC = x$; $AB = y$ de asemenea $DC = AC - AD = y - x$. Aplicând teorema cosinusului în $\triangle BDA$ obținem $x^2 = x^2 + y^2 - 2xy \cos 36^\circ$

sau $2 \cos 36^\circ = y/x$. Din asemănarea $\triangle ABC$ și $\triangle BDC$ obținem rapoartele

$$\frac{AB}{BD} = \frac{BC}{DC} \text{ sau } \frac{y}{x} = \frac{x}{y-x}$$

Prelucrarea acestei propoziții ne conduce la ecuația

$$\left(\frac{y}{x}\right)^2 - \left(\frac{y}{x}\right) - 1 = 0 \text{ cu soluția (pozitivă) } \frac{y}{x} = \frac{1+\sqrt{5}}{2}$$

$$\text{Prin urmare } \cos 36^\circ = \frac{1+\sqrt{5}}{4} \Rightarrow \sin 36^\circ = \sqrt{1 - \cos^2 36^\circ} = \frac{\sqrt{10-2\sqrt{5}}}{4}$$

$$\text{și } l_5 = R \frac{\sqrt{10-2\sqrt{5}}}{2}$$

Formula laturii pentagonului ar trebui să ne conducă și la construcția sa. Prelucrăm această relație încercând o interpretare geometrică a ei:

$$l_5^2 = \frac{R^2}{4} \cdot 10 - \frac{R^2}{4} \cdot 2\sqrt{5} \Rightarrow l_5^2 = \left(\frac{5R^2}{4} - 2 \cdot \frac{R\sqrt{5}}{2} \cdot \frac{R}{2} + \frac{R^2}{4}\right) + \frac{4R^2}{4}$$

$$l_5^2 = \left(\frac{R\sqrt{5}}{2} - \frac{R}{2}\right)^2 + R^2$$

Această relație reprezintă teorema lui Pitagora pentru un triunghi cu ipotenuza l_5 și catetele $\frac{R\sqrt{5}}{2} - \frac{R}{2}$ și R . Cum construim un segment de lungime $\frac{R\sqrt{5}}{2}$ când cunoaștem R ? Procedăm analog $\left(\frac{R\sqrt{5}}{2}\right)^2 = R^2 + \frac{R^2}{4}$ ceea ce reprezintă tot teorema lui Pitagora, de data aceasta pentru catetele R și $R/2$ iar ipotenuza $R\sqrt{5}/2$.

De aici și metoda lui Ptolemeu de construcție a pentagonului. În figura 3:

$$OB = R, OF = \frac{R}{2}; FB = FG = \frac{R\sqrt{5}}{2}, OG = FG - OF = \frac{R\sqrt{5}}{2} - \frac{R}{2} \text{ și } BG = l_5$$

Metoda 1: Construim un cerc de rază OA și centru O . Perpendicular pe diametrul AC ducem raza OB . Fie F mijlocul segmentului OA . Construim un arc de cerc de rază FB cu centrul în F care intersectează diametrul cercului în G . BG va fi lungimea laturii pentagonului regulat înscris în cercul dat.

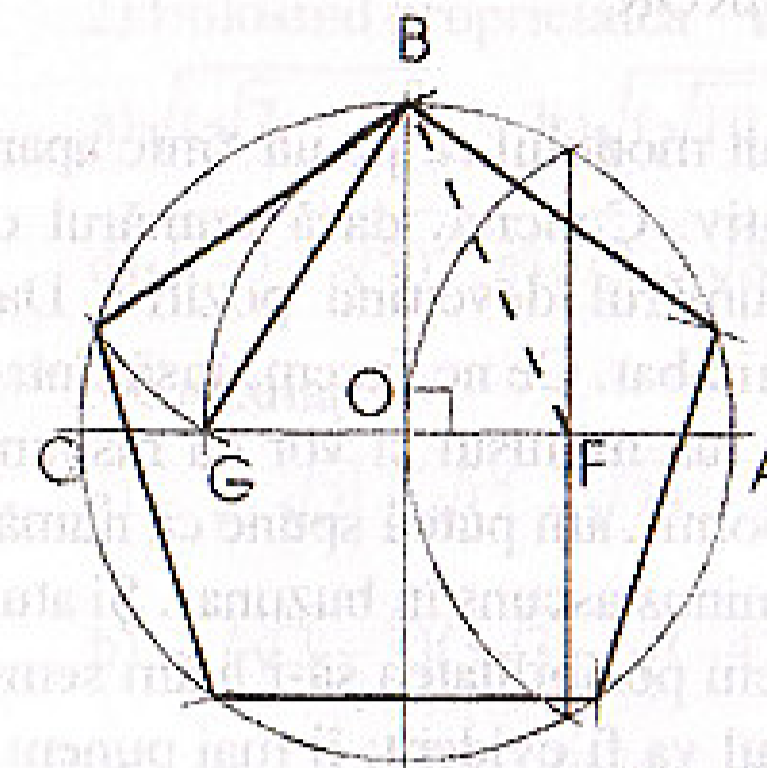


fig.3

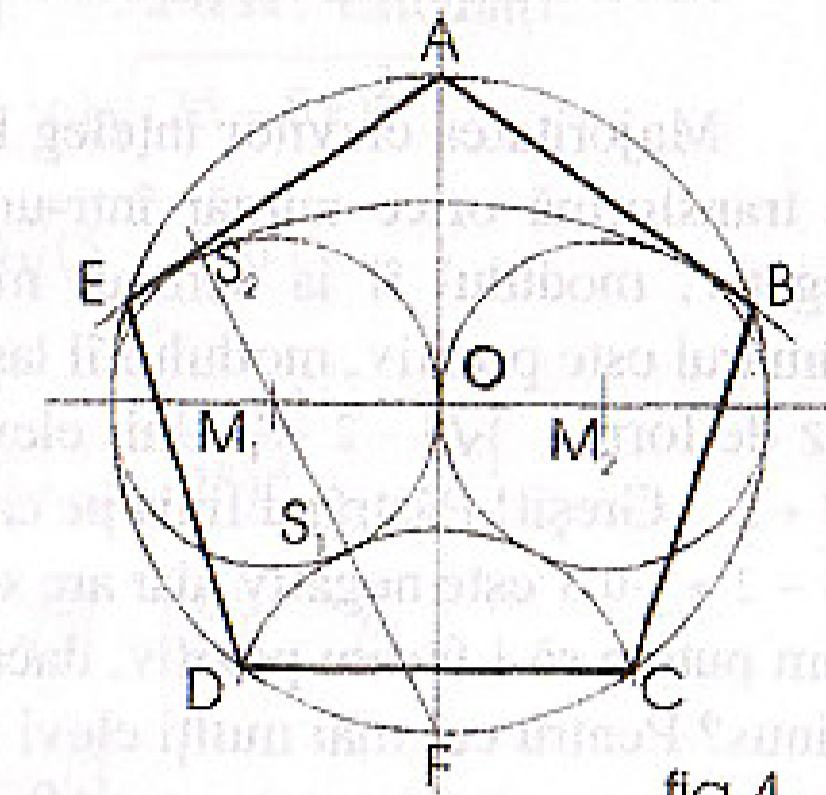


fig.4

Metoda 2: Această metodă este mai puțin cunoscută, dar are avantajul că vârfurile pentagonului se găsesc simultan. Pe un diametru orizontal al cercului mare construim două cercuri cu diametrul cât raza cercului mare. Prin centrul M_1 ducem secanta FM_1 , AF fiind diametrul perpendicular pe M_1M_2 . FM_1 intersectează cercul mic în S_1 și S_2 . Construim arcele de cerc de centru F și rază FS_1 respectiv FS_2 . Aceste arce intersectează cercul mare în D , C respectiv B , E care împreună cu A vor fi vârfurile pentagonului regulat. Demonstrație:

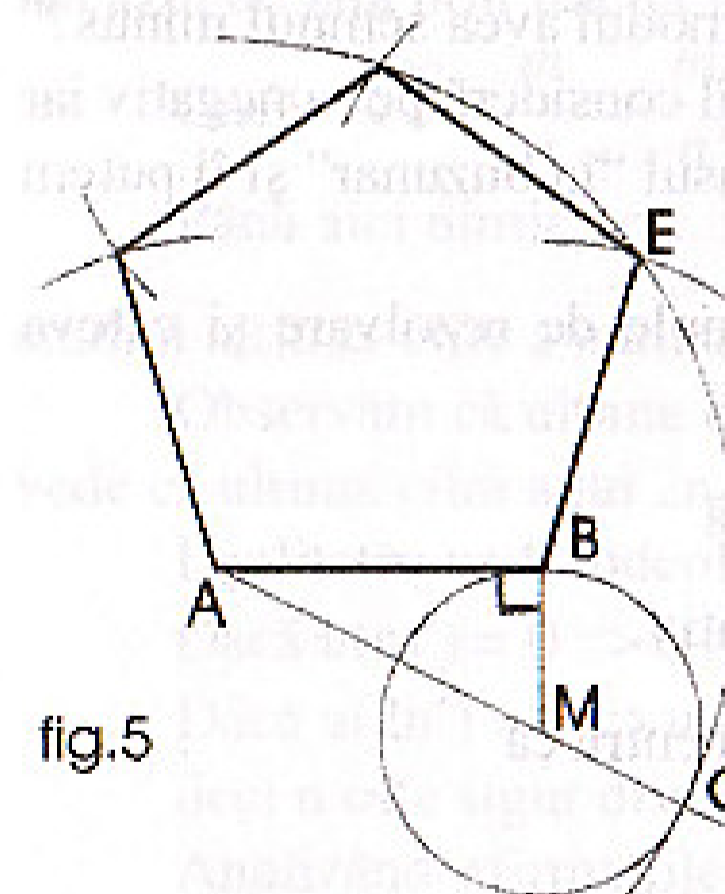


fig.5

$$\text{In } \triangle M_1FO, M_1F = \sqrt{R^2 + \frac{R^2}{4}} = \frac{R}{2}\sqrt{5}$$

$$FS_2 = \frac{R}{2}\sqrt{5} + \frac{R}{2} = \frac{R}{2}(\sqrt{5} + 1)$$

$$FE = FS_2 = \frac{R}{2}(\sqrt{5} + 1) = b$$

$$\text{In } \triangle FEA, EA = \sqrt{4R^2 - b^2} =$$

$$\sqrt{4R^2 - \frac{R^2}{4}(\sqrt{5} + 1)^2} = \frac{R}{2}\sqrt{10 - 2\sqrt{5}} = l_5$$

Metoda 3: Triunghiul ABM este dreptunghic în B și $BM = AB/2$. Cercul de centru M și rază MB intersectează dreapta AM în C (fig. 5). Construim arcul de cerc de rază AC și centrul A , luăm apoi AB în deschizătura compasului și construim un arc de cerc cu centrul în B , care va intersecta arcul mare în E . Acesta va fi al treilea vârf al pentagonului. Pentru aflarea celui de-al patrulea vârf construim un nou arc de cerc de aceeași rază și centru E , etc.

MODULUL PE ÎNȚELESUL TUTUROR

Majoritatea elevilor înțeleg la început modulul ca pe un "mic aparat" ce transformă orice număr într-unul pozitiv. Concret, dacă numărul este negativ, modulul îi ia semnul minus, numărul devenind pozitiv. Dacă, numărul este pozitiv, modulul îl lasă neschimbat. Ce ne facem, însă, într-un caz de forma $|\sqrt{3} - 2|$? Unii elevi îi vor lua minusul și vor da răspunsul $\sqrt{3} + 2$. Greșit! Păstrând linia pe care am pornit, am putea spune că numărul $\sqrt{3} - 2 \approx -0,3$ este negativ, dar are semnul minus ascuns în buzunar. Și atunci cum putem să-l facem pozitiv, dacă nu avem posibilitatea să-i luăm semnul minus? Pentru cei mai mulți elevi răspunsul va fi evident: îi mai punem un minus pentru că $(-) \times (-) = (+)$! Astfel, avem:

$$|\sqrt{3} - 2| = -(\sqrt{3} - 2) = -\sqrt{3} + 2 = 2 - \sqrt{3} \approx 2 - 1,7 = 0,3$$

Dacă numărul din modul este pozitiv, nu-i punem minus:

$$3 - \sqrt{5} = \sqrt{9} - \sqrt{5} > 0 \Rightarrow |3 - \sqrt{5}| = 3 - \sqrt{5}$$

În acest moment elevii vor înțelege și următoarea contradicție (aparentă) din definiția modulului:

$$|a| = \begin{cases} a & \text{dacă } a \geq 0 \\ -a & \text{dacă } a < 0 \end{cases}$$

"Cum adică $|a| = -a$? Păi cum poate un modul avea semnul minus?"

Confuzia apare din cauză că cei mai mulți elevi îl consideră pe $-a$ negativ iar pe a pozitiv. De fapt, dacă $a < 0$, acesta are minusul "în buzunar" și îl putem "pozitiviza" doar "dăruindu-i" încă un minus.

Prezentăm în continuare încă două exemple de rezolvare și câteva exerciții pe această temă:

$$\begin{aligned} \text{a)} \quad |3\sqrt{2} - 2\sqrt{3}| &= 3\sqrt{2} - 2\sqrt{3} && \text{pentru că} \\ 3\sqrt{2} - 2\sqrt{3} &= \sqrt{18} - \sqrt{12} && \text{este pozitiv.} \end{aligned}$$

$$\begin{aligned} \text{b)} \quad |3 - \pi| &= -(3 - \pi) = -3 + \pi = \pi - 3 && \text{pentru că} \\ 3 - \pi &\approx 3 - 3,14 = -0,14 < 0 \end{aligned}$$

1) Găsiți următoarele valori absolute:

$$\text{a)} |2, (3)|; \quad \text{b)} |-\sqrt{2}|; \quad \text{c)} |\sqrt{2} - 1|; \quad \text{d)} |\sqrt{5} - 3|; \quad \text{e)} |\pi - 3|; \quad \text{f)} |1 - \sqrt{2}|;$$

$$\text{g)} |\sqrt{7} - \pi|; \quad \text{h)} |2 + \sqrt{7}|; \quad \text{i)} |-\sqrt{3} - \sqrt{6}|; \quad \text{j)} |\sqrt{10} - \pi|; \quad \text{k)} |5 - 2\sqrt{6}|;$$

$$\text{l)} |\pi - 3,14|; \quad \text{m)} |1,41 - \sqrt{2}|.$$

2) Folosind proprietatea $\sqrt{a^2} = |a|$, $\forall a \in \mathbf{R}$, calculați:

$$\text{a)} \sqrt{(\sqrt{7} - 3)^2}; \quad \text{b)} \sqrt{(\sqrt{10} - 2)^2}; \quad \text{c)} \sqrt{(25 - 8\pi)^2};$$

$$\text{d)} \sqrt{(-5 - \sqrt{5})^2}; \quad \text{e)} \sqrt{(3 - \sqrt{8})^2}; \quad \text{f)} \sqrt{(5 - \sqrt{26})^2}.$$

3) Calculați:

$$\text{a)} \quad |-\sqrt{2}| + \sqrt{(2 - \sqrt{7})^2} + |4 - \sqrt{7}| + \sqrt{(-25)^2}$$

$$\text{b)} \quad (\sqrt{3} - 2)(3\sqrt{3} - \sqrt{(-4)^2}) + |1 - \sqrt{3}| + |\sqrt{27} - 7|$$

$$\text{c)} \quad |\sqrt{2} - 1,41| + |1,73 - \sqrt{3}| - \sqrt{2} - \sqrt{3}$$

$$\text{d)} \quad \pi - (\sqrt{2} + \sqrt{3}) + |\pi - (\sqrt{2} + \sqrt{3})|.$$

IRAȚIONALITATEA LUI $\sqrt{2}$

Demonstrația clasică pentru iraționalitatea lui $\sqrt{2}$ folosește metoda reducerii la absurd, presupunând că $\sqrt{2}$ este un număr rațional, reprezentat în cazul de față prin fracția ireductibilă m/n ; $m, n \in \mathbf{N}^*$.

$$\text{Dacă } \sqrt{2} = \frac{m}{n} \Rightarrow \frac{m^2}{n^2} = 2 \Rightarrow m^2 = 2n^2$$

Până aici nimic nou. Iată însă, o continuare a demonstrației bazată pe studiul ultimei cifre a numerelor naturale m^2 și $2n^2$.

Observăm că ultima cifră a lui m^2 poate fi 0; 1; 4; 5; 6 sau 9. La fel se vede că ultima cifră a lui $2n^2$ poate fi 0; 2 sau 8.

Egalitatea va fi îndeplinită doar dacă ultima cifră este 0.

$$\text{Dacă } u(m^2) = 0 \Rightarrow u(m) = 0 \Rightarrow m : 10 \Rightarrow m : 2 \text{ și } m : 5 \quad (1)$$

$$\text{Dacă } u(2n^2) = 0 \Rightarrow u(n^2) = 0 \text{ sau } 5 \Rightarrow u(n) = 0 \text{ sau } 5 \\ \text{deci } n \text{ este sigur divizibil cu } 5 \quad (2)$$

Analizând afirmațiile (1) și (2) observăm că fracția m/n se poate simplifica cu 5, ceea ce intră în contradicție cu ireductibilitatea presupusă inițial. Din această contradicție putem trage concluzia că $\sqrt{2}$ nu este un număr rațional. (q. e. d)

CORPURILE PLATONICE

Cunoscute și sub denumirile de poliedre regulate sau corpuri cosmice, acestea au fost descrise pentru întâia oară de filozoful antic grec Platon (427? - 347? î.Ch.). Ele sunt în număr de cinci, și anume: tetraedrul (regulat), cubul, octaedrul, icosaedrul și pentagon - dodecaedrul; toate au fețele poligoane regulate congruente, iar unghiurile diedre dintre oricare două fețe alăturate sunt congruente.

Pornind din acest număr, vom analiza pe rând cele trei corpuri platonice "neglijate" în învățământul românesc, și anume octaedrul (opt fețe), dodecaedrul (12 fețe) și icosaedrul (20 fețe), prezentându-le într-un mod cât mai accesibil și atrăgător tuturor elevilor. Precizăm că oricare dintre acestea poate fi construit din carton de către un elev interesat. Chiar "desenarea" desfășurării acestor corpuri reprezintă un exercițiu bun pentru antrenarea vederii în spațiu, iar satisfacția trăită în final este deosebită. Așadar puneți mâna pe foarfecă, lipici, carton și dați-i drumul!

I. OCTAEDRUL

Acesta are opt fețe triunghiuri echilaterale și poate fi descompus în două piramide cu baza comună, un pătrat. De fapt, toate secțiunile diagonale ABCD, AECF și BEDF sunt pătrate cu același centru. Notând lungimea muchiei cu a se pot ușor demonstra (chiar în clasa a VIII-a) formulele pentru diagonala, aria și volumul octaedrului:

$$d = a\sqrt{2}, \quad A = 2a^2\sqrt{3} \quad \text{și} \quad V = \frac{a^3\sqrt{2}}{3}$$

Pe lângă proprietățile și formulele enunțate mai sus se pot demonstra și următoarele: $m(\angle AE, BF) = 60^\circ$; $m(\angle EB, (ABCD)) = 45^\circ$ sau $(ADE) \perp (BCF)$.

II. TETRAEDRUL, CUBUL ȘI OCTAEDRUL ÎNSCRISE UNUL ÎN CELĂLALT

Aceste trei corpuri platonice se pot înscrie fiecare în celelalte două. Cea mai cunoscută dintre cele șase înscrieri este prima:

1. Centrele fețelor unui cub sunt vârfurile unui octaedru (fig. 2).
2. Centrele fețelor unui octaedru sunt vârfurile unui cub .

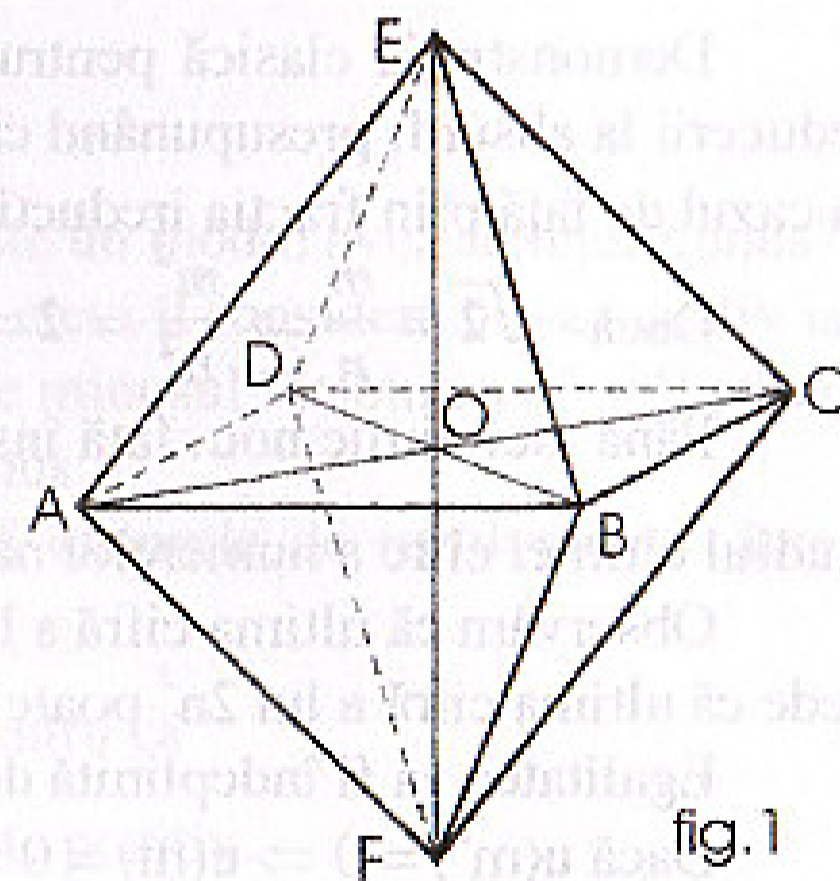


fig. 1

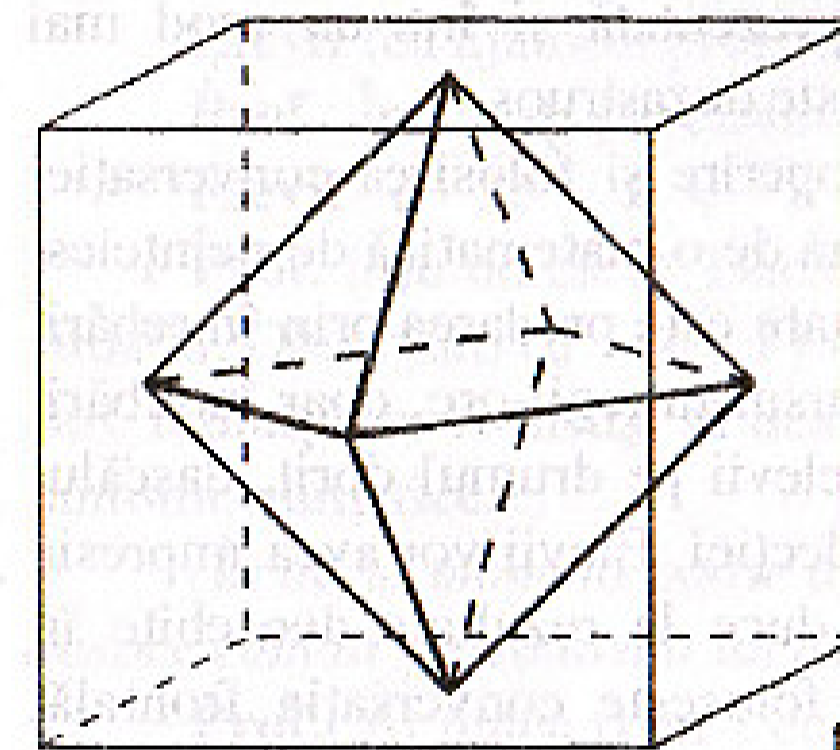


fig. 2

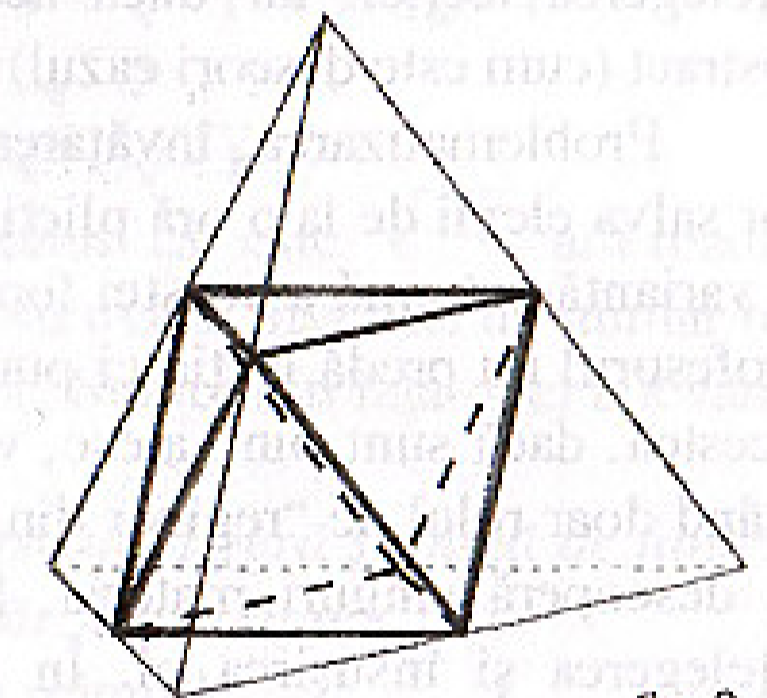


fig. 3

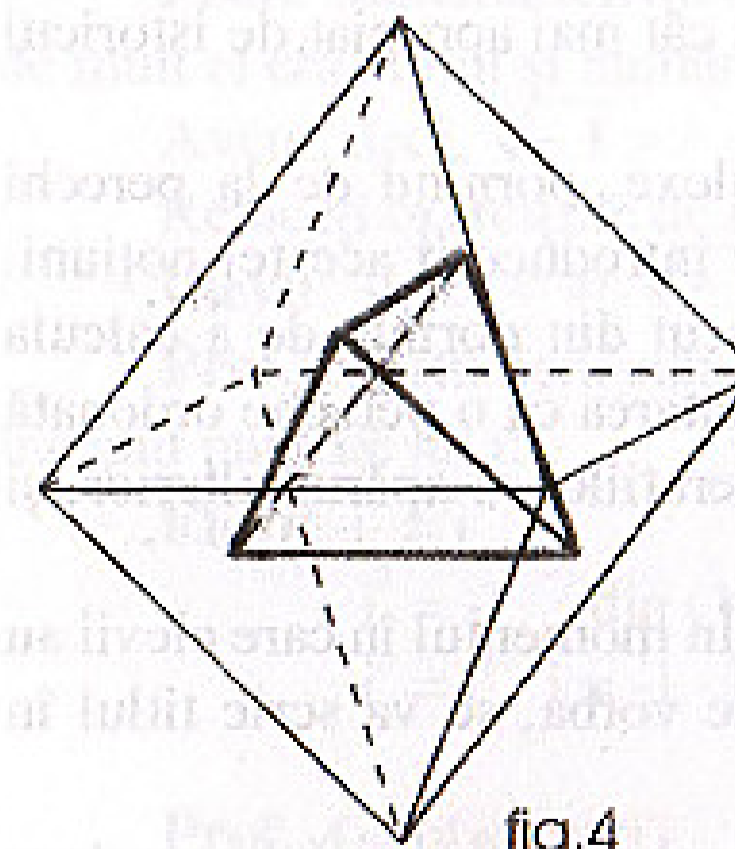


fig. 4

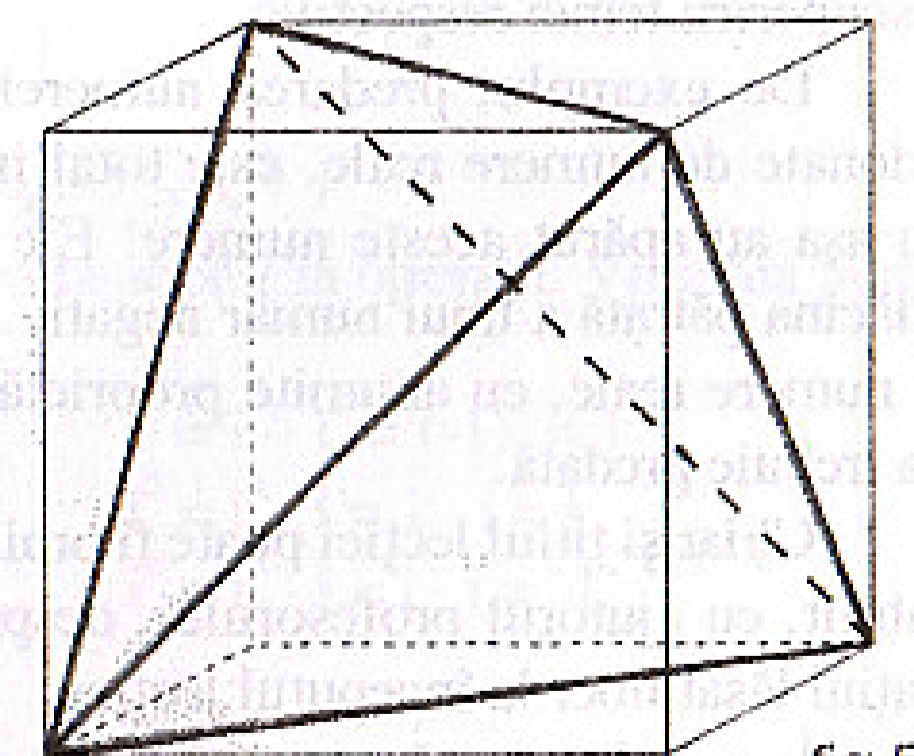


fig. 5

3. Mijloacele muchiilor unui tetraedru regulat sunt vârfurile unui octaedru regulat (fig. 3).

4. Centrele a patru fețe nealăturate ale unui octaedru sunt vârfurile unui tetraedru regulat (fig. 4).

5. Vârfurile A, C, B' și D' ale cubului ABCDA'B'C'D' sunt vârfurile unui tetraedru regulat (fig. 5).

6. Centrele fețelor și mijloacele înălțimilor unui tetraedru regulat sunt vârfurile unui cub.

Dintre toate aceste înscrieri, singura accesibilă clasei a VIII-a este înscrierea tetraedrului în cub (5). Celelalte merită studiate doar în clasa a X-a sau la cercurile de matematică.

APARIȚIA NUMERELOR COMPLEXE

Predarea noțiunii prin întrebări

Titus Grigorovici

“Să facem să treacă totul prin filtrul convingerii elevului, să nu-i băgăm nimic în cap pe baza autorității și încrederii în spusele altuia”.

MONTAIGNE

Prelegerea în matematică, adică predarea prin prezentarea de către profesor a unei teorii “afișate” direct pe tablă, asigură parcurgerea unei cantități mari de materie în timp optim. Însă materia este rareori înțeleasă de către elevi, în majoritatea cazurilor fiind necesar un ajutor ulterior pentru înțelegerea lecției. Iar dacă aceasta este prezentată și într-un mod mai abstract (cum este deseori cazul) rezultatul este dezastruos.

Problematizarea, învățarea prin descoperire și folosirea conversației vor salva elevii de la o oră plictisitoare, plină de o matematică de neînțeles. O variantă extremă a acestei forme de învățare este predarea prin întrebări. Profesorul nu predă lecția ci pune, pe parcursul întregii ore, doar întrebări. Acestea, dacă sunt bine alese, vor orienta elevii pe drumul dorit, dascălul având doar rolul de “regizor din umbră” al lecției. Elevii vor avea impresia că descoperă singuri materia, fapt ce va duce la rezultate deosebite în înțelegerea și însușirea ei. În general se folosește conversația frontală, elementele lecției fiind descoperite inductiv sau prin analogie. Întrebările trebuie astfel puse încât elevii să poată răspunde pe baza unor cunoștințe anterioare sau a unui raționament simplu. Pașii logici dintre două întrebări trebuie să fie accesibili clasei iar parcursul ales cât mai apropiat de istoricul descoperirii temei respective.

De exemplu, predarea numerelor complexe, pornind de la perechi ordonate de numere reale, este total improprie introducerii acestei noțiuni. Nu așa au apărut aceste numere! Ele s-au născut din dorința de a calcula rădăcina pătrată a unui număr negativ. Reprezentarea ca o pereche ordonată de numere reale, cu anumite proprietăți ale operațiilor, a apărut ulterior, și așa trebuie predată.

Chiar și titlul lecției poate fi omis inițial. În momentul în care elevii au stabilit, cu ajutorul profesorului, despre ce este vorba, se va scrie titlul în spațiul lăsat liber la începutul lecției.

În cazul unor răspunsuri greșite, profesorul nu trebuie să-l corecteze pe elev, ci să pună o nouă întrebare care să evidențieze greșeala și să ajute răspunsul corect.

Prezentăm în continuare, într-un dialog imaginar, introducerea numerelor complexe în clasa a IX-a.

Profesor: Din capitolul precedent cunoaștem că rădăcina de ordin par nu este definită pentru numere negative. În particular, nu există un număr real pentru $\sqrt{-9}$. Altfel spus, nu există un număr real a pentru care $a^2 = -9$. La fel ca la operația 3-5, când am descoperit numerele negative, sau ca la 7:2 când am găsit numerele raționale, și aici vom încerca să rezolvăm dilema printr-o extindere a domeniului numerelor. Să studiem puțin această situație: încercați să calculați $\sqrt{-9}$!

Elevii: ...?**Prof.:** Să încercăm să scoatem factorii de sub radical!**Elevii** (cu ajutorul profesorului): $\sqrt{-9} = \sqrt{-1 \cdot 9} = 3\sqrt{-1}$.**Prof.:** Încercați și pentru $\sqrt{-25}$ și $\sqrt{-7}$.**Elevii:** $\sqrt{-25} = 5 \cdot \sqrt{-1}$ și $\sqrt{-7} = \sqrt{7} \cdot \sqrt{-1}$.

Prof. (sau un elev): Dacă am putea stabili cât este $\sqrt{-1}$, am rezolva situația. Observăm că $(\sqrt{-1})^2 = -1$. Nu există însă nici un număr real care înmulțit cu el însuși să dea rezultatul -1. Suntem în fața unei adevărate fantome numerice.

(În acest moment poate avea loc o discuție lejeră și plină de fantezie despre cum ar putea arăta un astfel de număr. De exemplu:)

Prof.: Ar putea fi un 1 cu jumătate de minus?!**Un elev:** Poate $\bar{1}$?**Alt elev:** sau $\cdot 1$? etc.

Prof.: Matematicienii au optat pentru varianta “i” de la imaginar. Mai de mult el era numit și număr imposibil.

Avem, deci, $\sqrt{-1} = i$ sau $i^2 = -1$. (1)

Refaceți exercițiile de mai sus!

Elevii: $\sqrt{-9} = 3i$; $\sqrt{-25} = 5i$; $\sqrt{-7} = \sqrt{7} i$.

Prof.: Să studiem cum se comportă acest i în operații. Vom lua pentru început puterile lui i :

Elevii: $i^1 = i$ $i^4 = i^2 \cdot i^2 = (-1)^2 = 1$ $i^2 = -1$ din (1) $i^5 = i^4 \cdot i = 1 \cdot i = i$ $i^3 = i^2 \cdot i = -1 \cdot i = -i$ $i^6 = i^5 \cdot i = i \cdot i = -1$

.....

Prof.: Ce observați?**Elevii:** Se repetă grupul de rezultate i ; -1 ; $-i$; 1 .

Elevii (Cu ajutorul profesorului): pentru orice $k \in \mathbf{N}$ avem $i^{4k} = 1$; $i^{4k+1} = i$; $i^{4k+2} = -1$ și $i^{4k+3} = -i$.

Prof.: Dar 1^0 cât este?

Elevii: $i^0 = 1$, pentru $k = 0$; la fel ca la numerele reale.

Prof.: Efectuați operațiile: $2 \cdot 5i$; $-3 \cdot (-7i)$; $i \cdot 3i$; $-5i \cdot 6i$; $(4i)^2$; $(2i)^3$; $15i : 3$; $16i : i$; $20i : 5i$.

Răspunsurile elevilor: $10i$; $21i$; -3 ; $+30$; -16 ; $-8i$; $5i$; 16 ; 4 .

Prof.: Urmează adunările și scăderile: $7i + 3i$; $5i - 12i$; $-8i - 6i$; $3 + 2i$; $6i - 1$.

Răspunsurile elevilor: $10i$; $-7i$; $-14i$; $3 + 2i$ și $6i - 1$ nu se pot efectua.

Un elev (sau profesorul): și la $3 + 2\sqrt{5}$ lăsăm în această formă, deși puteam calcula cu aproximație.

Prof.: $(7 + 5i) + (2 - 3i)$

Elevii: $= 7 + 5i + 2 - 3i = 9 + 2i$

Prof.: $(-2 + 3i) + (7 - i) - (6 - 9i)$

Elevii: $-2 + 3i + 7 - i - 6 + 9i = 11i - 1$

Prof.: Observăm că se conturează trei categorii de numere:

1. numerele reale (care nu au i);
2. numerele de forma ni cu $n \in \mathbf{R}$, numite imaginare;
3. numerele de forma $a + bi$ cu $a, b \in \mathbf{R}$ compuse dintr-o parte reală și una imaginară. Ele se numesc numere complexe. Mulțimea numerelor complexe se notează cu \mathbf{C} . Acum scriem și titlul la începutul lecției: NUMERE COMPLEXE.

Prof.: Ce se întâmplă dacă $b = 0$?

Elevii: Obținem un număr real.

Prof.: Înseamnă că $\mathbf{R} \subset \mathbf{C}$ și avem șirul de incluziuni

$\mathbf{N} \subset \mathbf{Z} \subset \mathbf{Q} \subset \mathbf{R} \subset \mathbf{C}$

(După unele exerciții de aprofundare)

Prof.: Am văzut cum se efectuează adunările și scăderile. Să revenim la înmulțire: $(5 + 3i) \cdot (2 + 4i)$

Elevii: $= 5 \cdot 2 + 5 \cdot 4i + 3i \cdot 2 + 3i \cdot 4i = 10 + 20i + 6i - 12 = -2 + 26i$

(După alte exemple se poate ajunge prin observații la formulele)

Elevii și Prof.: $(a + bi) + (c + di) = (a + c) + (b + d)i$ și

$(a + bi) \cdot (c + di) = (ac - bd) + (ad + bc)i$.

*

Urmează tema, care va conține multe operații de tipul studiat având rolul de a familiariza cât mai repede elevul cu numerele proaspăt cunoscute. Conjugatul și împărțirea se studiază analog în ora următoare. La reprezentarea grafică se poate face legătura numerelor complexe cu perechea ordonată $(a; b) \in \mathbf{R} \times \mathbf{R}$. Tot aici se poate studia, cu ajutorul teoremei lui Pitagora, modulul unui număr complex ca fiind distanța de la originea axelor la imaginea sa (la fel ca la numere reale).

Observăm în final, că, spre deosebire de lecția din manual, aici nu am avut nevoie de nici o definiție, elevii construind "din nimic" toată teoria.

BIBLIOGRAFIE:

EGMONT COLERUS - DE LA TABLA ÎNMULȚIRII LA INTEGRALĂ: EDITURA ȘTIINȚIFICĂ, 1967

EUGEN RUSU - PROBLEMATIZARE ȘI PROBLEME ÎN MATEMATICA ȘCOLARĂ: EDITURA DIDACTICĂ ȘI PEDAGOGICĂ, 1978

PROBLEMA SÂRMEI PE ECUATOR

Să presupunem că am reuși să întindem o sârmă în jurul Pământului, de-a lungul Ecuatorului. La întâlnirea unor dealuri sau munți am trece sârma prin șanțuri sau tuncle astfel încât forma sa finală să fie perfect circulară. Dacă am adăuga acestui cerc încă $7m$ de sârmă, raza sa ar crește. Această creștere ar fi suficientă ca să treacă pe sub sârmă un câine?

Răspuns: Notând cu r raza cercului inițial și cu R raza cercului după adăugarea celor $7m$ de sârmă, obținem că:

$$2\pi R - 2\pi r = 7 \Rightarrow 2\pi(R - r) = 7 \Rightarrow R - r = \frac{7}{2\pi} \approx \frac{7}{2 \cdot 3,14} = \frac{7}{6,28} > 1.$$

Deci raza cercului s-ar mări cu peste $1m$, suficient să treacă pe sub sârmă toți câinii Pământului.

ADAPTARE DUPĂ: A. HOLLINGER - MATEMATICA VII, EDITURA DIDACTICĂ ȘI PEDAGOGICĂ, 1970